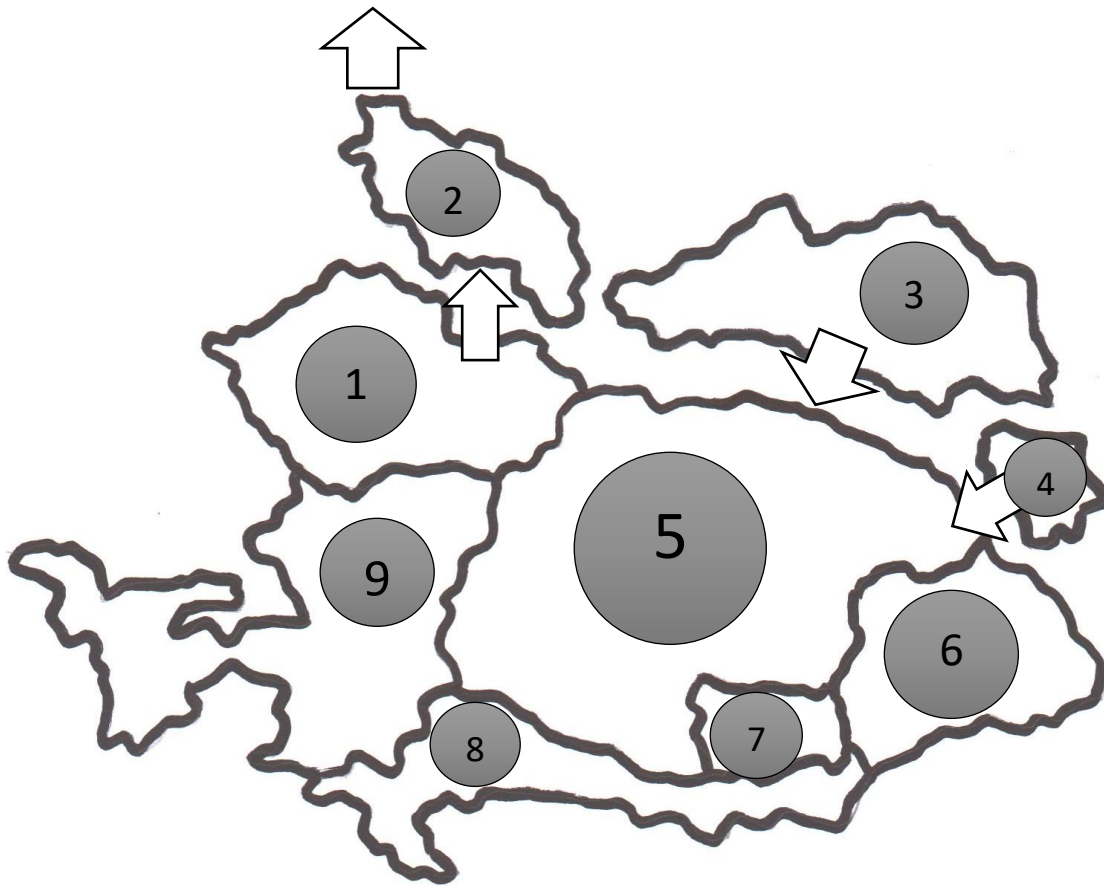


A birodalom országai

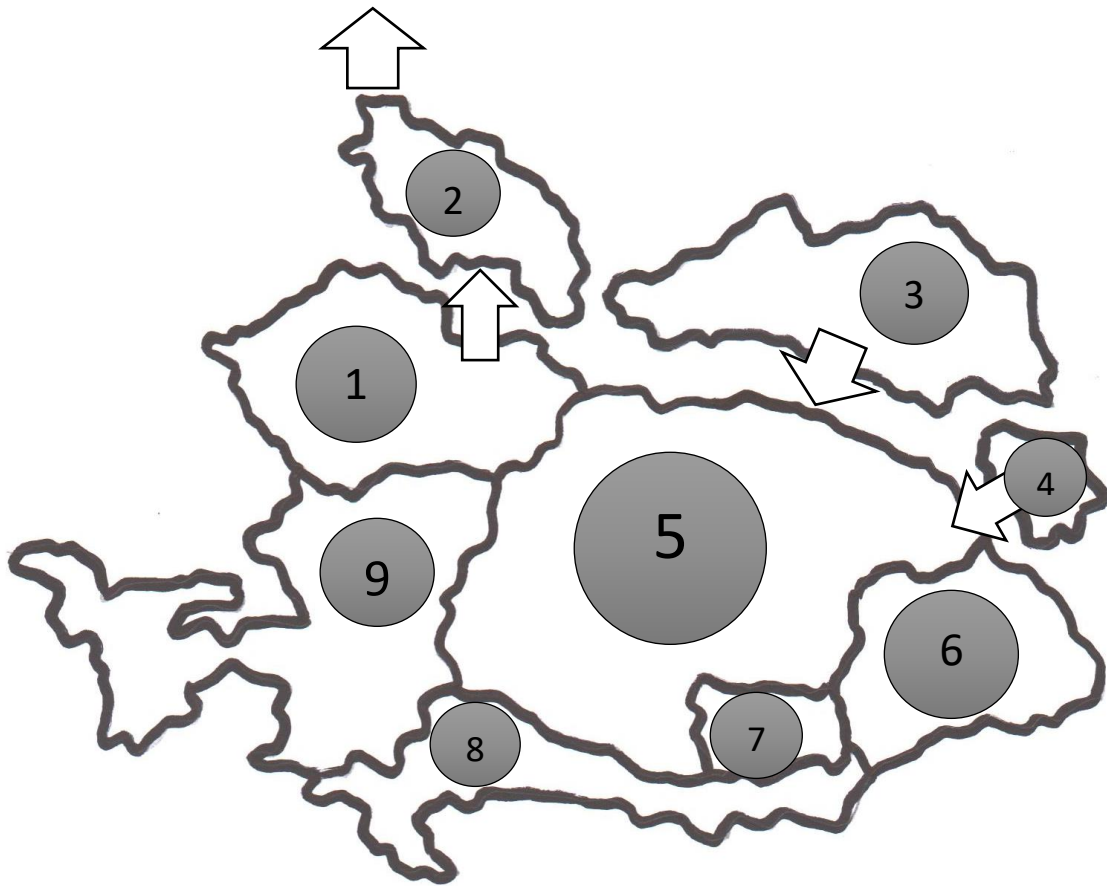
A csapat száma:



Töltsd ki a táblázatot a területekhez tartozó számokkal!

a terület száma	a terület (ország, tartomány) rövid megnevezése
	Erdélyi Nagyfejedelemség
	Galícia
	Temesköz
	osztrák örökös tartományok
	Szilézia
	Magyar Királyság
	Horvát-Szlavón Királyság és a Határőrvidék
	Bukovina
	Cseh Királyság

Rajzod be a vámrendelet alapján meghúzott vámhatárokat!



Töltsd ki a táblázatot a területekhez tartozó számokkal!

a terület száma	a terület (ország, tartomány) rövid megnevezése
6	Erdélyi Nagyfejedelemség
3	Galícia
7	Temesköz
9	osztrák örökös tartományok
2	Szilézia
5	Magyar Királyság
8	Horvát-Szlavón Királyság és a Határőrvidék
4	Bukovina
1	Cseh Királyság

Rajzod be a vámrendelet alapján meghúzott vámhatárokat!

A királynő alattvalói

A csapat száma:

Kik láthatók a képeken? Nevezd meg őket és az alattuk lévő táblázatba írd be, kire melyik információ igaz! Ugyanez vonatkozik a képekre is! Vigyázat! Amennyiben a kép alá nem helyes nevet írtál, az információkat viszont jól írtad be, az utóbbiakra kapott pontokat elveszítitek!



neve	neve	neve
a rá vonatkozó betűjelek	a rá vonatkozó betűjelek	a rá vonatkozó betűjelek


A – „a dán királyi akadémia tagja lettem”, **B** – „tót anyanyelvű, magyar nemzetiségű, német műveltségű vagyok” **C** – „sok találmányom mellett mozgatható betegágyat készítettem a királynőnek” **D** – majdnem kivégeztek a Rákóczi-szabadságharc idején, mert a tábornok azzal gyanúsított, hogy Rákóczi Ferenc híve vagyok”



E -



F -



G -

A királynő alattvalói

A csapat száma:

Kik láthatók a képeken? Nevezd meg őket és az alattuk lévő táblázatba írd be, kire melyik információ igaz! Ugyanez vonatkozik a képekre is! Vigyázat! Amennyiben a kép alá nem helyes nevet írtál, az információkat viszont jól írtad be, az utóbbiakra kapott pontokat elveszítitek!




neve	neve	neve
SAJNOVICS JÁNOS	BÉL MÁTYÁS	KEMPELEN FARKAS
a rá vonatkozó betűjelek	a rá vonatkozó betűjelek	a rá vonatkozó betűjelek
A - E	B - D - F	C - G


A – „a dán királyi akadémia tagja lettem”, **B** – „tót anyanyelvű, magyar nemzetiségű, német műveltségű vagyok” **C** – „sok találmányom mellett mozgatható betegágyat készítettem a királynőnek” **D** – majdnem kivégeztek a Rákóczi-szabadságharc idején, mert a tábornok azzal gyanúsított, hogy Rákóczi Ferenc híve vagyok”



E -



F -



G -

6. feladat: Az ország benépesítése

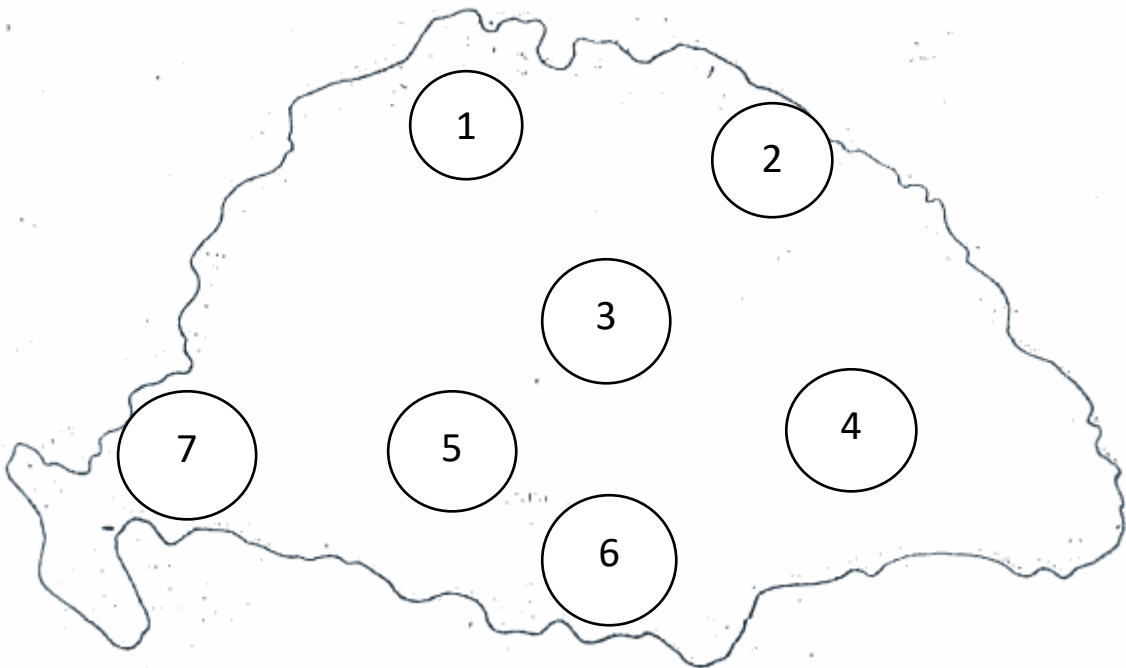


Melyik népek, nemzetiségek képviselői láthatók az ábrán? Nevezd meg őket a lenti részekben!

.....

Melyik szám jelzi a nép, nemzetiség helyét a térképen?

.....



Nevezd meg azokat a népeket, nemzetiségeket, akik a fennmaradó három szám területén éltek!

számjelölés	A nép, nemzetiség

Igaz – hamis állítások. Ha az állítás igaz, karikázd be az I-t, ha hamis, akkor a H-t. Csak abban az esetben indokold meg a választásod, ha hamis az állítás, az igazat elhisszük!

A, Mercy gróf betelepítési tervét még Mária Terézia édesapja kezdte megvalósítani.

I – H Indoklás:

B, Buda, Óbuda és Pest lakossága Mária Terézia uralkodásának végére többségében magyar lett.

I – H Indoklás:

C, „Sváb-Törökország“ a Magyar Királyság határain kívül, a mai Svábföldön kereshető.

I – H Indoklás:

D, Az első betelepülők sok kedvezményben részesültek: földet és háztelket is ingyen kaptak.

I – H Indoklás:

Segítség a térképhez – a számokkal jelölt területek rövid bemutatása:

1 – Felső-Magyarország vármegyéi

2 – a mai Kárpátalja

3 – a Duna-Tisza közötti terület és a Tiszántúl

4 – Partium (Részek) és Erdély

5 – Baranya, Tolna vármegyék

6 – Temesköz és a Határőrvidék

7 – a Dráva folyón túli területek

Megoldókulcs



Melyik népek, nemzetiségek képviselői láthatók az ábrán? Nevezd meg őket a lenti részekben!

román (oláh)

magyar

szlovák (tót)

német (sváb)

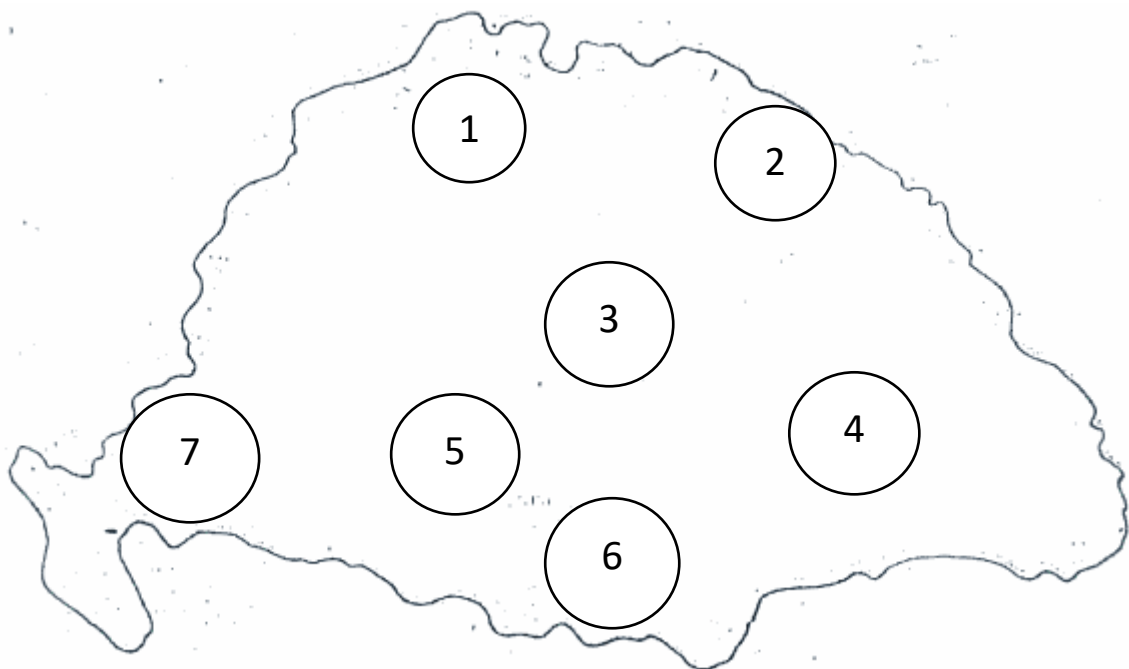
Melyik szám jelzi a nép, nemzetiség helyét a térképen?

4

3

1

5



Nevezd meg azokat a népeket, nemzetiségeket, akik a fennmaradó három szám területén éltek!

számjelölés	A nép, nemzetiség
2	RUSZINOK
6	SZERBEK
7	HORVÁTOK

Igaz – hamis állítások. Ha az állítás igaz, karikázd be az I-t, ha hamis, akkor a H-t. Csak abban az esetben indokold meg a választásod, ha hamis az állítás, az igazat elhisszük!

A, Mercy gróf betelepítési tervét még Mária Terézia édesapja kezdte megvalósítani.

I H Indoklás: ---

B, Buda, Óbuda és Pest lakossága Mária Terézia uralkodásának végére többségében magyar lett.

I H Indoklás: DÖNTŐ TÖBBSÉGÉBEN NÉMETEK ÉLTEK ITT, MÉG SZERBEK

C, „Sváb-Törökország“ a Magyar Királyság határain kívül, a mai Svábföldön kereshető.

I H Indoklás: TOLNA, BARANYA ÉS SOMOGY MEGYÉK, AZ ORSZÁGON BELÜL

D, Az első betelepülők sok kedvezményben részesültek: földet és háztelket is ingyen kaptak.

I H Indoklás: ---

Segítség a térképhez – a számokkal jelölt területek rövid bemutatása:

1 – Felső-Magyarország vármegyéi

2 – a mai Kárpátalja

3 – a Duna-Tisza közötti terület és a Tiszántúl

4 – Partium (Részek) és Erdély

5 – Baranya, Tolna vármegyék

6 – Temesköz és a Határőrvidék

7 – a Dráva folyón túli területek

Grassalkovich Antal urbárium

csapat száma:

A gróf két jobbágyának adóterheit kell lejegyeznetek az urbárium eme oldalán. A jobbágyok vagyonát is figyelembe véve töltsétek ki a szabadon hagyott helyeket!



Jakab jobbágy egy telket bérel a gróf földjeiből. Bár vannak barmai, igás állata, ökrei nincsenek. Telkéről tíz zsák gabonát takarított be.

László jobbágy két telket bérel a gróf földjeiből. Vannak igás állatai, ökrei, sőt, szekere is van. Két telkéről húsz zsák gabonát takarított be.

Jakab adóterhei	László adóterhei
AZ EGYHÁZAT MEGILLETŐ ADÓ – TIZED (gabonában számítva)	
A FÖLDESURAT MEGILLETŐ ADÓ – KILENCED (gabonában számítva)	
A FÖLDESURAT MEGILLETŐ ADÓ – PÉNZADÓ (pénzben számítva)	
A FÖLDESURAT MEGILLETŐ ADÓ – ROBOT (napokban számítva)	
igás robot	igás robot
gyalogrobot	gyalogrobot

Grassalkovich Antal urbárium

MEGOLDÓKULCS

A gróf két jobbágyának adóterheit kell lejegyeznetek az urbárium eme oldalán. A jobbágyok vagyonát is figyelembe véve töltsétek ki a szabadon hagyott helyeket!



Jakab jobbágy egy telket bérel a gróf földjeiből. Bár vannak barmai, igás állata, ökrei nincsenek. Telkéről tíz zsák gabonát takarított be.

László jobbágy két telket bérel a gróf földjeiből. Vannak igás állatai, ökrei, sőt, szekere is van. Két telkéről húsz zsák gabonát takarított be.

Jakab adóterhei	László adóterhei
AZ EGYHÁZAT MEGILLETŐ ADÓ – TIZED (gabonában számítva)	
1 zsák gabona	2 zsák gabona
A FÖLDESURAT MEGILLETŐ ADÓ – KILENCED (gabonában számítva)	
1 zsák gabona	2 zsák gabona
A FÖLDESURAT MEGILLETŐ ADÓ – PÉNZADÓ (pénzben számítva)	
1 forint	1 forint
A FÖLDESURAT MEGILLETŐ ADÓ – ROBOT (napokban számítva)	
igás robot NINCS!	igás robot HETI 2 NAP / ÉVI 104 NAP
gyalogrobot HETI 2 NAP / ÉVI 104 NAP	gyalogrobot NINCS!

Képes feladat

A csapat száma:

1.

Melyik városban járunk?

Milyen építmény látható a képen?

2.

Melyik városban járunk?

Melyik család palotája látható a képen?

3.

Melyik városban járunk?

Melyik család palotája látható a képen?

Jelenleg milyen szerepet tölt be ez a palota, vagyis ki használja?

4.

Hol található az emlékmű?

Melyik népcsoport tragédiájához kapcsolódik?

5.

Hol található a képen látható kastély?

Melyik család büszkesége volt a palota?

6.

Mi látható a képen?

Melyik városban található?

1.

Melyik városban járunk? **VÁC**

Milyen építmény látható a képen? **DIADALÍV**

2.

Melyik városban járunk? **GÖDÖLLŐ**

Melyik család palotája látható a képen? **GRASSALKOVICH / GRASSALKOVICS**

3.

Melyik városban járunk? **POZSONY**

Melyik család palotája látható a képen? **GRASSALKOVICH / GRASSALKOVICS**

Jelenleg milyen szerepet tölt be ez a palota, vagyis ki használja? **SZLOVÁKIA ELNÖKE**

4.

Hol található az emlékmű? **MADÉFALVA**

Melyik népcsoport tragédiájához kapcsolódik? **A SZÉKELYEKHEZ**

5.

Hol található a képen látható kastély? **FERTŐD / ESZTERHÁZA**

Melyik család büszkesége volt a palota? **ESTERHÁZY**

6.

Mi látható a képen? **MÁRIA TERÉZIA SÍREMLÉKE / SÍREMLÉK**

Melyik városban található? **BÉCS**

Felséges lányom, Franciaország jövőbeli királynéja (1)!

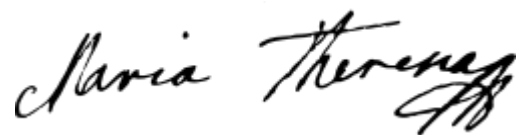
Rég nem adtam hírt Magunkról, hiszen az utóbbi napokban kellemes kötelességnek tettem eleget. Kedves hívünk, a Fényesnek is becézett Herceg (2) vendége voltam, s bevallom, ha egy igazán jó operát akarok látni, érdemes Hercegünket felkeresni. Hogy ki volt a zenekar vezetője (3), nem tudom, de nem is érdekes az ilyen személyekre fecsérelni az időt, a fő, hogy Hercegünk kitett magáért. Mint a hajdani Krózus, úgy viselkedett! Szeme sem rebbent, amikor az ünnepség kis kastélya elpusztult, építtetett helyébe egy másikat! De ne hidd, felséges lányom, hogy ez gondot okozott neki, das ist für einen Fürsten Esterházy eine Bagatelle! (4) Van ezekben a szittyia magyarokban valami őserő, amit a mi kedves Kancellárunk (5) Bécsben is csak fintorogva fogad, olyan, lovagias, nagyvonalú és Fényes, ahogy a neve is mutatja.

Van-e még egy olyan helye a mi világunknak, mint ahol Ön lakik? A mi palotánk (6), itt szeretett Bécsünk határában, igen, de lovagias Hercegünk sem akart lemaradni. Egy fiatal frankfurti (7) egyenesen „magyar Verszáliának” nevezte az itteni multságokat. Színház, opera, tűzijáték és pompa egy helyen! Bárcsak láthatta volna az Ön szeretett császári édesapja (8)! Gondolná bárki is, hogy házigazdánk egy rendíthetetlen katona? Három lovat lőttek ki alóla a cseh csatamezőn (9-10)! Hercegünk úgy éli életét, mintha legalább kettő lenne belőle. Egyik az egyszerű, szigorú főnemesi katonaélet. A másik pedig a saját mesevilágában élő uralkodó, akinek a jelszava: Minden színház!

Felséges lányom! E leveleмен keresztül szeretném jelezni a német-római császár, az Ön bátyjának (11) látogatását a francia király és az Ön kegyes személye előtt, amelyre ezen a nyáron kerül sor.

Másrészt szeretném, ha jó hírrel örvendeztetne meg, vajon kérhetjük-e Isten áldását egy ifjú trónörökös eljövételéhez?

Az Ön Felséges édesanyja



uralkodásunk harmincötödik évében (12)

a csapat száma:

Válaszolj a kérdésekre a számok alapján!

(1)– Ki a megszólított személy, Franciaország jövőbeli királynéja?

.....

(2)– Ki a „Fényes“ becenéven ismert herceg?

.....

(3)– Ki a karnagy, akinek nevére Mária Terézia nem emlékszik?

.....

(4)– Mit jelent a német nyelvű betoldás? Fordítsd le magyarra!

.....

(5)– Ki az említett kedvenc kancellár? Elég a vezetéknévét lejegyeznetek!

.....

(6)– Mi a neve Mária Terézia otthoni palotájának?

.....

(7)– Ki volt a fiatal, frankfurti (vagyis német) költő?

.....

(8)– Hogy hívták a szeretett császári édesapát? Nem elég a keresztnév!

.....

(9)– Melyik csatára utal Mária Terézia?

.....

(10)– Melyik háború epizódja volt

.....

(11)- Ki az említett idősebb testvér?

.....

(12)- Melyik évben született a levél?

.....

Mária Terézia levele - MEGOLDÓKULCS

Válaszolj a kérdésekre a számok alapján!

(1)– Ki a megszólított személy, Franciaország jövőbeli királynéja?

MARIE ANTOINETTE vagy MÁRIA ANTÓNIA

(2)– Ki a „Fényes“ becenéven ismert herceg?

ESTERHÁZY MIKLÓS JÓZSEF (de elég a József nélkül is)

(3)– Ki a karnagy, akinek nevére Mária Terézia nem emlékszik?

JOSEPH HAYDN

(4)– Mit jelent a német nyelvű betoldás? Fordítsd le magyarra!

EZ EGY ESTERHÁZY HERCEGNEK SEMMISÉG (nem kell szó szerint)

(5)– Ki az említett kedvenc kancellár? Elég a vezetéknévét lejegyeznetek!

KAUNITZ

(6)– Mi a neve Mária Terézia otthoni palotájának?

SCHÖNBRUNN

(7)– Ki volt a fiatal, frankfurti (vagyis német) költő?

Johann Wolfgang GOETHE

(8)– Hogy hívták a szeretett császári édesapát? Nem elég a keresztnév!

LOTHARINGIAI FERENC

(9)– Melyik csatára utal Mária Terézia?

A KOLÍNI CSATA

(10)– Melyik háború epizódja volt

HÉTÉVES HÁBORÚ

(11)- Ki az említett idősebb testvér?

JÓZSEF (még: II. József is elfogadható)

(12)- Melyik évben született a levél?

1775-ben

Rakjunk rendet az események sorrendjében!

csapat száma:

A lenti eseményeket a legkorábbtól kezdve rakjátok sorrendbe!

Aachenben a harcoló felek békét kötnek	7
A királynő kiadja az oktatási rendeletet	13
III. Károly kiadja a Pragmatica Sanctio nevű dokumentumot	1
Mária Terézia feloszlatja a jezsuita szerzetesrendet	12
A magyar nemesek felajánlják „életüket és vérüket”	5
Történelemverseny zajlik Nyitrán a Katedra égisze alatt Mária Teréziáról	16
Lotharingiai Ferenc, Mária Terézia férje, német-római császár lesz	6
A magyar országgyűlés elfogadja a Pragmatica Sanctiót	3
Mária Teréziát gyászoló alattvalói utolsó útjára kísérik Bécsben	14
Mária Terézia Sziléziáért kirobbantja a hétéves háborút	8
Mária Terézia bevezeti a jobbágyok adóival foglalkozó úrbéri rendeletet	11
Megszületik III. Károly lánya, Mária Terézia	2
A Hősök terén több királlyal együtt Mária Teréziának is állítanak szobrot	15
Porosz támadással kitör az osztrák örökösödési háború	4
Mária Terézia megalapítja a magyar királyi nemesi testőrséget	10
A kolíni csatában fényes győzelem születik a poroszok felett	9

TÖRITOTÓ

csapatszám:



1. A képen látható személy...

1 – Mária Terézia szerelme és férje

2 – egy ideig Mária Terézia társuralkodója volt

X – a porosz király, aki elvette Mária Terézia leggazdagabb tartományát



2. A képen látható személy kiemelkedő szerepet játszott...

1 – Magyarország benépesítésében

2 – a pozsonyi országgyűlésen a katonai segítség megajánlásában

X – a Pragmatica Sanctio elfogadtatásában



3. A képen látható pár azt a nemzetiséget képviseli, amelyik...

1 – majd az ország lakosságának 17%-át teszi ki

2 – majd az ország lakosságának 15%-át teszi ki

X – majd az ország lakosságának 10%-át teszi ki



4. A képen látható személy...

1 – kitűnt bátorságával és művészetpártolásával

2 – főiskolát alapított Egerben

X – palotával rendelkezett Pozsonyban és Gödöllőn is



5. A képen látható személy...

- 1 – részt vett a kolíni csatában és kitűnt bátorságával
- 2 – tulajdona volt a „magyar Verszália”
- X – köznemesi származású családból lett az egyik leghatalmasabb főúr



6. A képen látható személy...

- 1 – egy időben horvát báni címet is viselt
- 2 – tulajdona volt a „magyar Verszália”
- X – fontos szerepet játszott a csángók letelepítésében



7. A képen látható személy...

- 1 – nem ért a hadvezetéshez, de kitűnő pénzügyi szakember lehetne
- 2 – adta ki a Pragmatica Sanctiot
- X – betöltötte a nádori tisztséget



8. A képen látható személy...

- 1 – a francia királynál elintézte a poroszok elleni szövetség megkötését
- 2 – tulajdona volt a „magyar Verszália”
- X – tudja, hogyan kell az ellenfél fővárosának lakóit megtanítani ,
milyen dolog balkezes kesztyűbe dudálni



9. A képen látható személy...

- 1 – evangélikus lelkészként földrajzi műveket írt
- 2 – Mária Terézia kedvenc kancellárja, tanácsadója volt
- X – már ötévesen egy zenei zseni volt és operákat komponált



10. A képen látható személy...

- 1 – Részt vett a kolíni csatában
- 2 – már ötévesen egy zenei zseni volt és operákat komponált
- X – evangélikus lelkészként földrajzi műveket írt



11. A képen látható személy...

- 1 – Mária Terézia kedvenc tanácsadója volt
- 2 – a porosz király, aki elvette Mária Terézia leggazdagabb tartományát
- X – köznemesi származású családból lett az egyik leghatalmasabb főúr



12. A képen látható kitüntetést Mária Terézia...

- 1 – Szent Lászlóról nevezte el
- 2 – a híres Mátyás királyról nevezte el
- X – államalapító, első királyunkról nevezte el