

A KATEDRA-VERSENYEK
FŐ SZERVEZŐJE

a Katedra folyóirat

KATEDRA-VERSENY

A Katedra-versenyek az oktatásügyi minisztérium által akkreditált és támogatott versenyek.
További, a versennyel kapcsolatos információk: www.katedra.sk, katedra.szerkesztoseg@gmail.com

KATEDRA ALSÓ TAGOZATOS VERSENY

ROVATVEZETŐ: HERDICS KALOCSÁNYI MÓNICA, katedra.also.tagozat@gmail.com

AZONOSÍTÓ SZÁM: 2023005

III. forduló

Beküldési határidő: 2023. JANUÁR 20.

A csapat neve:	A csapattagok neve:	A forduló száma:
A felkészítő pedagógus neve, e-mail-címe, telefonszáma:	Az iskola neve, címe, e-mail-címe, telefonszáma:	III.

Kedves Gyerekek és Pedagógusok!

Túl vagyunk levelezős versenyünk felén, azonban a döntőhöz vezető úton még korántsem ajánlatos hátrahátrálni. A harmadik fordulóra a 15-22. fejezetig (a 88–133. oldallal bezárólag) kérem elolvasni a könyvet. Főhőseinknek vajon sikerül sárkány nélkül átkelni a Sárkánykádon? Van esélyük legyőzni a hírhedt fejtörőket? Olvasásra fel! Izgalommal teli csapatmunkát kívánok!

A verseny honlapján a „Segédanyagok” címszó alatt különböző weboldalakat találhattok, melyek segítségetekre lehetnek a feladatok megoldása során.

I. FELADAT: KI MIT TUD?

Karikázzátok be, hogy melyik szereplő miről tudott. Vigyázat: több megoldás is lehetséges! A megoldások végén szótagokat láthattok. Ha ügyesen dolgoztok, a szótagok egy újabb megoldássá fonódnak össze. A feladat végén válaszoljatok a kérdésekre!

1) Káro tudta, hogy:

- Rilexék örömmel megropogtatnák a csontjait (ÁR)
- Kunyi bosszút tervez ellene (TAL)
- a Sárkánykád nem olyan nagy, mint egy tenger (TAT)
- a Sárkánykád alja arannyal van kikövezve (TAL)

2) Rilex tudta, hogy:

- Kunyi elhozott pár aranyat Leiszút Feliszút barlangjából (MAS)
- Kunyi a fogai közé rejtette a lopott aranyat (MAT)
- jobb lenne, ha Kunyi nem húzna ujjat a compognathusszal (LAN)
- a pteroszaurusz csak meg akarja leckéztetni Kunyit (MAL)

- 3) Kunyi tudta, hogy:
- a) az arannyal le tudja csalni a vízhez a kapzsi varjút (KÉP)
 - b) Rilex nem fog örülni, ha fény derül a lopásra (PEL)
 - c) a fejtörő megoldása a fasírt (MA)
 - d) a halon kívül Dínomdánomban sem fog más húst enni (GYA)
- 4) Tökmag tudta, hogy:
- a) Tivornyás Vitorlás csak egy körre vitte el Kunyit (GYA)
 - b) merre van a Fogkopács háza (RÁZ)
 - c) miképp kerül a főtt hal a halászlébe (TA)
 - d) mik képezik Dínomdánom nevezetességeit (TA)
- 5) Fafej tudta, hogy:
- a) Rilex, Kunyi és Barmol miért jött Dínomdánomba (AZ)
 - b) a Fogkopácshoz sokan igyekeznek (BI)
 - c) Rilex fog kiállni ellene (ZA)
 - d) a megmérettetés nem egy fájdalmas barbár összetűzés lesz (ZO)
- 6) Tökfej tudta, hogy:
- a) mi a fejtörő megoldása (NYÍT)
 - b) Fafejet bárki könnyedén legyőzheti (VA)
 - c) Dínomdánomban annyi az étel, hogy mindenki jóllakik (VÁ)
 - d) aki egyszer lejut Dínomdánomba, az onnan már nem akar visszajönni (NYÁT)

Megfejtés:

.....

Kicsoda?

Mikor és miért?

.....

.....

II. FELADAT: TITKOS ÜZENET

Egy szót rejtettem el a következő szövegrészletben. Ha megtaláltátok az összes „furcsa” betűt, és sikerült értelmes szót alkotni belőlük, válaszoljatok a megoldáshoz tartozó kérdésekre.

Hamarosan a Csendetlen-óceán partjához érkeztek, amelynek valahol a másik oldalán terült el Dínomdánom, a dínók paradicsoma. Épp csak a túlpartra kellett volna átjutniuk valahoggy. Rilex végigtekintett a végeláthatatlan óceánon és a nyughatatlan hullámokon.

Megfejtés:

Mire használták a kapott kifejezést?

.....









Milyen érzéseket vált ki főhőseinkből ez a valami?

.....

.....

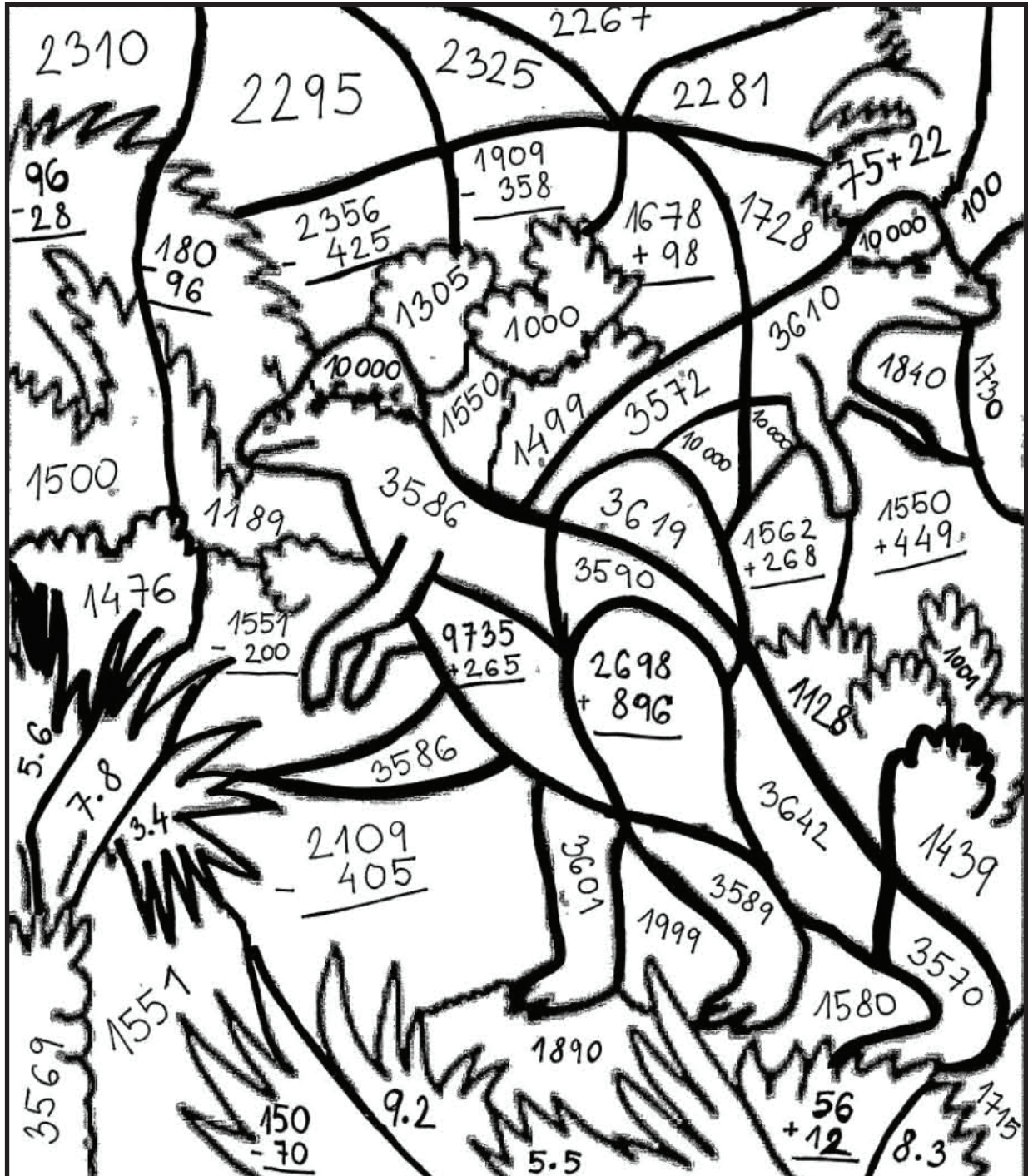
III. FELADAT: ÚTIKALAUZ

Írjátok le, hogy a könyvben olvasottak alapján mi jut eszetekbe az egyes képekről. A második oszlopban pedig fejtsetek ki kicsit bővebben, hogy az adott „dologról” mit tudtatok meg.

	Mi jut eszedbe a képről? (az olvasmányban keress egyezést)	Mi a szerepe/feladata / mi köthető hozzá?
		
		
		
		
		
		
		
		

IV. FELADAT: SZÍNES MATEMATIKA

Elő a színes ceruzákkal és számolásra fel! Az eredményül kapott és a rajzon található összes önálló szám besorolható valamelyik színhez. Ha ügyesen dolgoztok, egy szép színes képet kaptok. Válaszoljatok a képhez tartozó kérdésekre.



- | | |
|---|---|
| - $1000 \leq \text{_____} < 1551$ | - $\text{_____} \approx 2300$ |
| - $\text{_____} \leq 100$ | - a legkisebb 5 jegyű szám |
| - $1551 \leq \text{_____} < 2000$ | - $\text{_____} \approx 3600$ |

Milyen élőlényeket láttok?

Hogy hívják őket az olvasmányban?

.....

Mi a feladatuk?

.....

.....

.....

Jutalomponos feladat: *Tökfej fejtörője megtornáztatta az agyunk. Hamarabb rájöttetek a megoldásra, mint Kunyi? Ha ti állnátok Dínomdánom kapuja előtt, bejutnátok?*

Te vagy, de mégsem,
sötét, mint az éjjel,
fény kell, hogy létezzen,
vagy eltűnik az éjben,
mindenütt ott van,
követ, jön nyomodban,
megölelni lehetetlen,
lapul minden felületen.

Mi az?

Ha van kedvetek, írjatok – azaz, alkossatok ti magatok is egy (vagy több) saját fejtörőt!

Jó munkát kívánok!