

**FELADATOK**

## Teszt

*Oldjátok meg figyelmesen a tesztfeladatokat a levelező fordulók témaköreiből!*

**1) Honnan származik Vámbéry Ármin családja?**

- a) Hamburg                      b) Bamberg                      c) Wamberg                      d) Szentgyörgy

**2) Hány csillag látható Törökország zászlaján?**

- a) egy                                  b) kettő                                  c) három                                  d) egy sem

**3) Melyik ország területét nem érintette Vámbéry ázsiai utazásai során?**

- a) Irán                                  b) Kazahsztán                      c) Törökország                      d) Üzbegisztán

**4) Mi volt eredeti neve Vámbéry Árminnak?**

- a) Vámbergi Hermann      b) Wamber Ernő                      c) Wamberger Hermann                      d) Wamber Hermann

**5) Melyik Törökország legnépesebb települése?**

- a) Ankara                                  b) Izmir                                  c) Isztambul                                  d) Antalya

**6) Mikor született Vámbéry Ármin?**

- a) 1830. március 19.      b) 1832. március 19.      c) 1832. május 19.      d) 1831. március 19.

**7) Hányadik legnagyobb ország a területe szerint Törökország a világon?**

- a) 6    b) 16    c) 26    d) 36

**8) Mi volt Vámbéry Ármin második keleti utazásának végpontja?**

- a) Persepolis                      b) Shiraz                                  c) Teherán                                  d) Isfahan

**9) Kitől kapott magyar grófi rangot Benyovszky Móric?**

- a) Ferenc József                      b) II. József                                  c) Viktória királynő                      d) Mária Terézia

**10) Mivel tartotta el a családot Vámbéry Ármin édesanyja Szentgyörgyön?**

- a) kocsmároskodás                      b) takarítás                                  c) piócakereskedés                      d) varrás

**11) Milyen betegségben szenvedett Vámbéry Ármin hároméves korában, amitől bal lába lebénult?**

- a) bárányhimlő                      b) tüdőgyulladás                      c) kolera                                  d) csípőfájás

**12) Hogy hívták Vámbéry Ármin mostohaapját?**

- a) Fleischer                                  b) Kaufmann                                  c) Fleischmann                                  d) Fischer

**13) Ki bírálta kemény szavakkal Vámbéry munkásságát az ugor-török háborúban?**

- a) Trúry József                      b) Török Aurél                                  c) Marczali Henrik                      d) Budenz József

**14) Hol kapott Vámbéry Ármin állást 11 éves korában?**

- a) Dunaszerdahelyen                      b) Nyéken                                  c) Zsámbokréten                      d) Kutjevón

**15) Hol végezte gimnáziumi tanulmányai első két évét?**

- a) Szentgyörgyön                      b) Pozsonyban                                  c) Dunaszerdahelyen                      d) Budapesten

16) **Hogy nevezik ma Lundenburg nevű települést?**

- a) Pressburg                      b) Břeclav                      c) Vrakúň                      d) Hainburg

17) **Melyik városban érte Vámbéry Ármint az 1848-49-es forradalom?**

- a) Bécs                      b) Budapest                      c) Dunaszerdahely                      d) Pozsony

18) **Melyik családnál házitanítószkodott Vámbéry Ármin Zsámbokréten?**

- a) Rosenberg                      b) Petrikovich                      c) Schweiger                      d) Grünfeld

19) **Melyik tengerparti város kormányzására nevezték ki mindkét Zichy testvért?**

- a) Fiume                      b) Bécs                      c) Pozsony                      d) Amszterdam

20) **Mi volt Kittenberger Kálmány kedvenc vadászkutyájának neve?**

- a) Burkus                      b) Nimród                      c) Tábortűz                      d) Szikra

21) **Melyik településen kezdett Vámbéry Ármin törökül tanulni?**

- a) Kecskemét                      b) Kutyevó                      c) Zsámbokrét                      d) Konstantinápoly

22) **Melyik kávéházban ismerkedett meg Vörösmarty Mihállyal?**

- a) Szegedi                      b) Orczy                      c) Café Flamm                      d) Pilvax

23) **Kinek a segítségével jutott útlevélhez Vámbéry Ármin első keleti utazásához?**

- a) Garay János                      b) Ballagi Mór                      c) Hunfalvy Pál                      d) Eötvös József

24) **Milyen nyelven publikálta művét Besse János Károly?**

- a) francia                      b) angol                      c) magyar                      d) német

25) **Milyen néven volt ismert Vámbéry Ármin keleten, amit első ottani munkaadójától kapot?**

- a) Hadzsi Arminius                      b) Resid hadzsi                      c) Resid efendi                      d) Wamberger Ármin

26) **Első keleti utazása során melyik intézmény választja levelező tagjává Vámbéry Ármint?**

- a) Magyar Földrajzi Társaság                      b) Magyar Tudományos Akadémia  
c) Royal Geography Society                      d) Budapesti Királyi Magyar Tudomány-Egyetem

27) **Hol véste kőbe Vámbéry Ármin saját nevét és az „Éljen a magyar” szöveget?**

- a) Teherán                      b) Isfahán                      c) Shiraz                      d) Persepolis

28) **Kit neveznek efendinek keleten?**

- a) az írástudókat    b) a szenteket                      c) akik megjárták a mekkai zarándoklatot    d) papokat

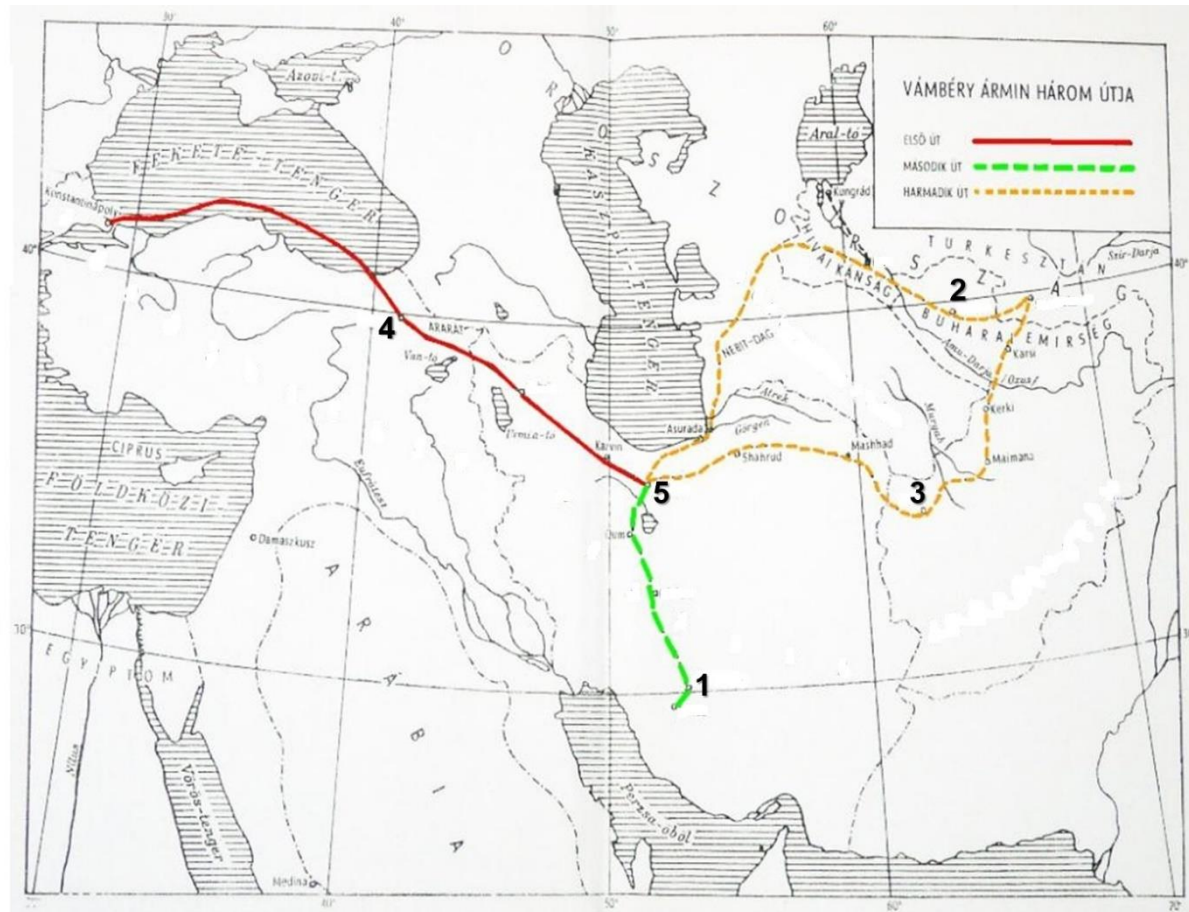
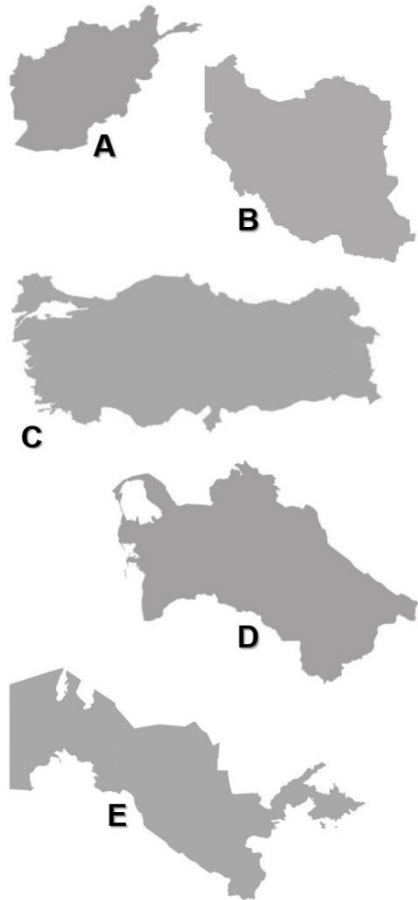
29) **Mikor érkezett haza keleti utazásairól Vámbéry Ármin?**

- a) 1864. május 29.                      b) 1864. december 6.                      c) 1861. július 7.                      d) 1861. december 15.

30) **Hol adta ki Vámbéry Ármin első ízben a Közép-ázsiai utazás című könyvét?**

- a) Budapest                      b) Bécs                      c) Párizs                      d) London

Vámbéry Ármin utazásainak térképe – nevezétek meg a megszámozott állomásokat (településeket), valamint írjátok a betűkkel megjelölt ábrák betűjeléhez Vámbéry Ármin útvonala által érintett országok neveit és azok fővárosait! (5 település neve + 5 ország neve + 5 főváros neve = 15 pont)



1 \_\_\_\_\_

2 \_\_\_\_\_

3 \_\_\_\_\_

4 \_\_\_\_\_

5 \_\_\_\_\_

A – ország: \_\_\_\_\_ + főváros: \_\_\_\_\_

B – ország: \_\_\_\_\_ + főváros: \_\_\_\_\_

C – ország: \_\_\_\_\_ + főváros: \_\_\_\_\_

D – ország: \_\_\_\_\_ + főváros: \_\_\_\_\_

E – ország: \_\_\_\_\_ + főváros: \_\_\_\_\_

## Kakukktójtás

*Keressétek meg a hármastok között megbúvó kakukktójtást és indokoltátok egy-egy rövid mondattal, miért lóg ki a sorból!*

1. Boszporusz	Dardanellák	Torosz
2. Kaszpi-tenger	Fekete-Tenger	Égei-tenger
3. Kittenberger Kálmán	Benyovszky Móric	Besse János Károly
4. Sedita	Slovenský plynáreňský priemysel	Volkswagen
5. Dunaszerdahely	Zsámbokrét	Pozsony
6. V. Ferdinánd	Ferenc József	Viktória
7. Központi Kávéház	Orczy-kávéház	Pilvax Kávéház
8. Magyar Tudományos Akadémia	Royal Geographical Society	Magyar Történelmi Társulat
9. Husszein Daim pasa	Ali pasa	Fuad pasa
10. Keleti életképek	Bokhara története	Resid efendi

Törökország térképe – nevezétek meg a bejelölt földrajzi képződményeket, valamint írjátok be a térképre Törökország határait (azt is, ami nincs megjelölve). Nevezétek meg az UNESCO Világörökségi helyszíneit is (segítségül, a könnyebb meghatározás miatt pár képet mellékeltem)!



1-

2-

3-

4-

5-

6-

7-

8-

9-

10-

a.



b.



c.



d.



e.



## Levél

**A következő képzeletbeli levelet Vámbéry Ármin a jövő nemzedékének címezte, melyben tíz művének címét rejtette el. Olvassátok el figyelmesen a levelet, majd a megfelelő mezőbe írjátok le Vámbéry Ármin tíz művének teljes címét! /10 pont**

Kedves Olvasóm!

Ha elmesélem élményeim, nem tűnnek majd olyannak, mint amilyenek az emberek által elképzelt tündérmesék. Mi több, néha veszélyesek és sanyarúak is voltak. Legnagyobb küzdelmeim közé tartoztak életem legmeghatározóbb cselekedetei, vándorlásaim a keleti világ országain keresztül. A közép-ázsiai térség nem a legbiztonságosabb területe volt világunknak a XIX. században, azonban a dervisruhában való utazás még Perzsiában is megfelelő oltalmat biztosított. Mindez azonban semmit sem ért volna, ha nem vagyok teljes ismeretben az iszlám vallásnak. Mivel a hatalmi helyzet Ázsiában meglehetősen bizonytalan volt, gyakran gyanúsítottak kémkedéssel, de nyelvismeretem minden kétséget eloszlatott személyem európai léte felől. Oroszország terjeszkedése ekkorra már szinte az indiai határig elért. Nem is csoda, hogy mindenki, aki kicsit is más volt, gyanús személynek tűnt.

A Közép-Ázsián át való utazás remek lehetőséget adott a mindennapi életképek megörökítésére és megértésére, azonban fő célom nemzetem eredete után való kutatás volt. Szerettem volna bizonyítani, hogy a magyar a török nyelv rokona, de be kell ismernem, ez a feltételezésem téves volt. Ugyanakkor a török nyelv nagy hatással volt a történelem évszázadai alatt a magyarra.

Életem egyik legfontosabb állása a Brit birodalomnak végzett ügynöki munka volt, amely a magyarság méltó megítélését is helyreállította a világban. Lehetőséget kaptam a világ legrangosabb fórumain előadást tartani, bár kicsit idegennek tűnt számomra a helyzet. Igazán büszke vagyok a munkatársaimmal közösen elvégzett munkára, ami által a Magyar Földrajzi Társaság születésénél is épp úgy ott lehettem, mint fiam bölcsőjénél. Hazám szolgálata annak ellenére is fontos volt számomra, hogy a magyarok késve ismerték fel munkásságom jelentőségét. Ma már, megkésve ugyan, de annál méltóbban emlékeznek tetteimre.

Kedves Olvasóm, levelem lassan végzem, de innen a múltból arra kérek, légy büszke nemzetedre, annak és saját eredményeidre, szemed előtt az a cél lebegjen, hogy jó hírért növeld és öregbítsd!

V. Á.

**Vámbéry Ármin műveinek teljes címei:**

1. \_\_\_\_\_
2. \_\_\_\_\_
3. \_\_\_\_\_
4. \_\_\_\_\_
5. \_\_\_\_\_
6. \_\_\_\_\_
7. \_\_\_\_\_
8. \_\_\_\_\_
9. \_\_\_\_\_
10. \_\_\_\_\_



## Töredékek

A képrészleteken 10 szlovákiai települést, melyek közül öthöz tartozik egy márkanév, a maradék öthöz pedig egy jellemzés. Párosítsátok ezeket, majd nevezzétek meg a településeket / látványosságokat!



1



2



3



4



5



6



7



8



9



10



A



B



C



D



E

F – Szlovákia legnagyobb váregyüttese

G – A barbárok ellen védte a Birodalmat

H – Skanzen gerendaházakkal

I – Mélyében folyik a föld alatti Styx/Stüx folyó

J – Szlovákiai fürdőváros, főterén a gótikus városházával

1 – \_\_\_\_\_

2 – \_\_\_\_\_

3 – \_\_\_\_\_

4 – \_\_\_\_\_

5 – \_\_\_\_\_

6 – \_\_\_\_\_

7 – \_\_\_\_\_

8 – \_\_\_\_\_

9 – \_\_\_\_\_

10 – \_\_\_\_\_

## Keresztrejtvény

*Az alábbi meghatározások alapján oldjátok meg a keresztrejtvény három részét, majd írjátok le, hogyan kapcsolódik az Vámbéry Árminhoz!*

Meghatározások:

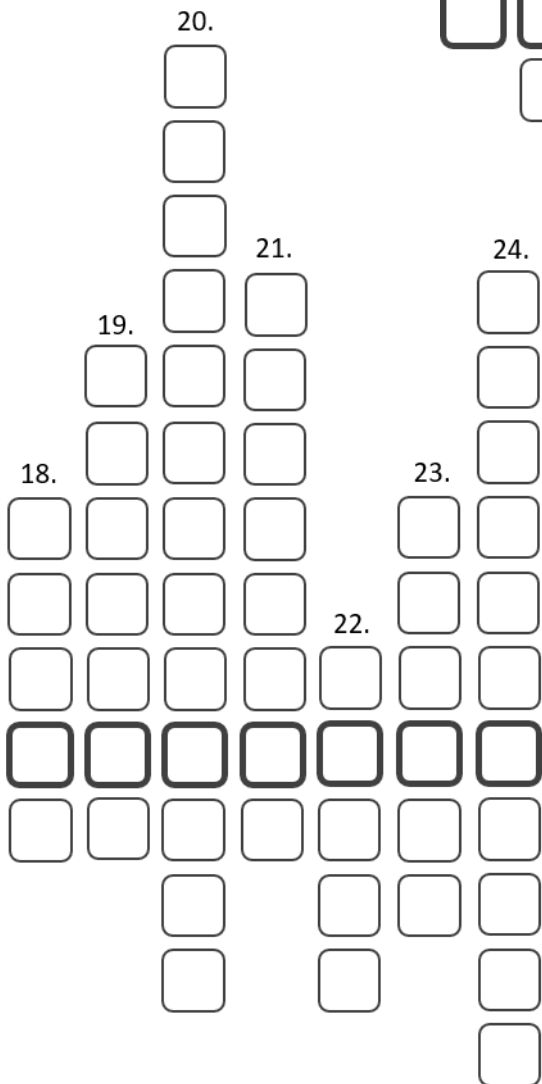
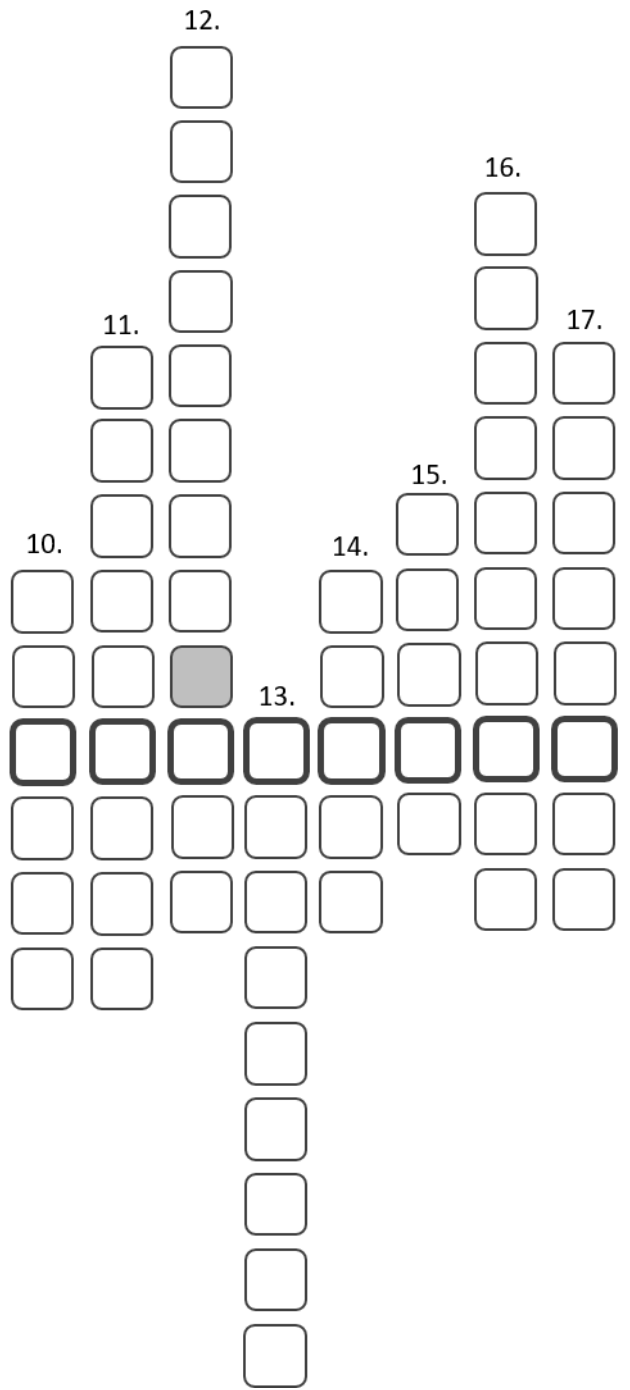

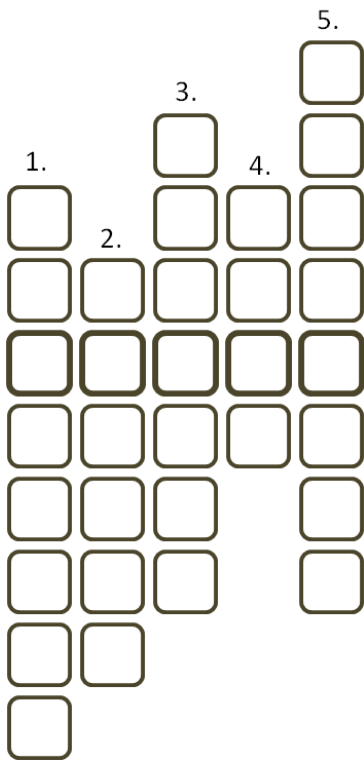
1. Ebben a temetőben találjuk Vámbéry nyughelyét
2. Ebben a városban adott elő Vámbéry elsőként nagy nyilvánosság előtt
3. Itt kedvelte meg Emília kisasszonyt
4. Híváshoz közel elterülő nagy tó
5. Öböl Törökország délnyugati részén
6. Ma ebben az országban található a település, ahonnan dédapja vándorolt Pozsony közelébe
7. Tőle kap nyelvtanári kinevezést az Egyetemre
8. Ismert török elektronikai márkánév
9. Ő mutatta be Vörösmarty Mihálynak Vámbéryt
10. Teheránból dél felé vezető útján ilyen embernek öltözve álcázta magát Vámbéry Ármin
11. Kittenberger Kálmán 1920-ban költözött ide
12. A Magyar Földrajzi Társaság egyik jeles alapítója
13. Mai ország Németalföld egykori területén
14. Vámbéry családjának vallása
15. Ezen dolgok árusításával keresete kenyerét családja Dunaszerdahelyen
16. Vámbéry útjának legkeletibb állomása
17. Vámbéry Ármin feleségének keresztnéve
18. Török buszmárka
19. Konstantinápolyból Perzsia felé Vámbéry ebben a városban száll partra a Fekete-tenger partvidékén
20. Illemtant / etikettet tanult tőle
21. Nagy-Britannia uralkodója, aki vendégül látta Vámbéry Ármint
22. Benyovszky Móric születésének helye
23. Első műve
24. Vámbéry Ármin születésének helye

Megfejtés: \_\_\_\_\_

Hogyan kapcsolódik Vámbéryhez?

---

---



**MEGOLDÁSOK**

## Teszt - megoldókulcs

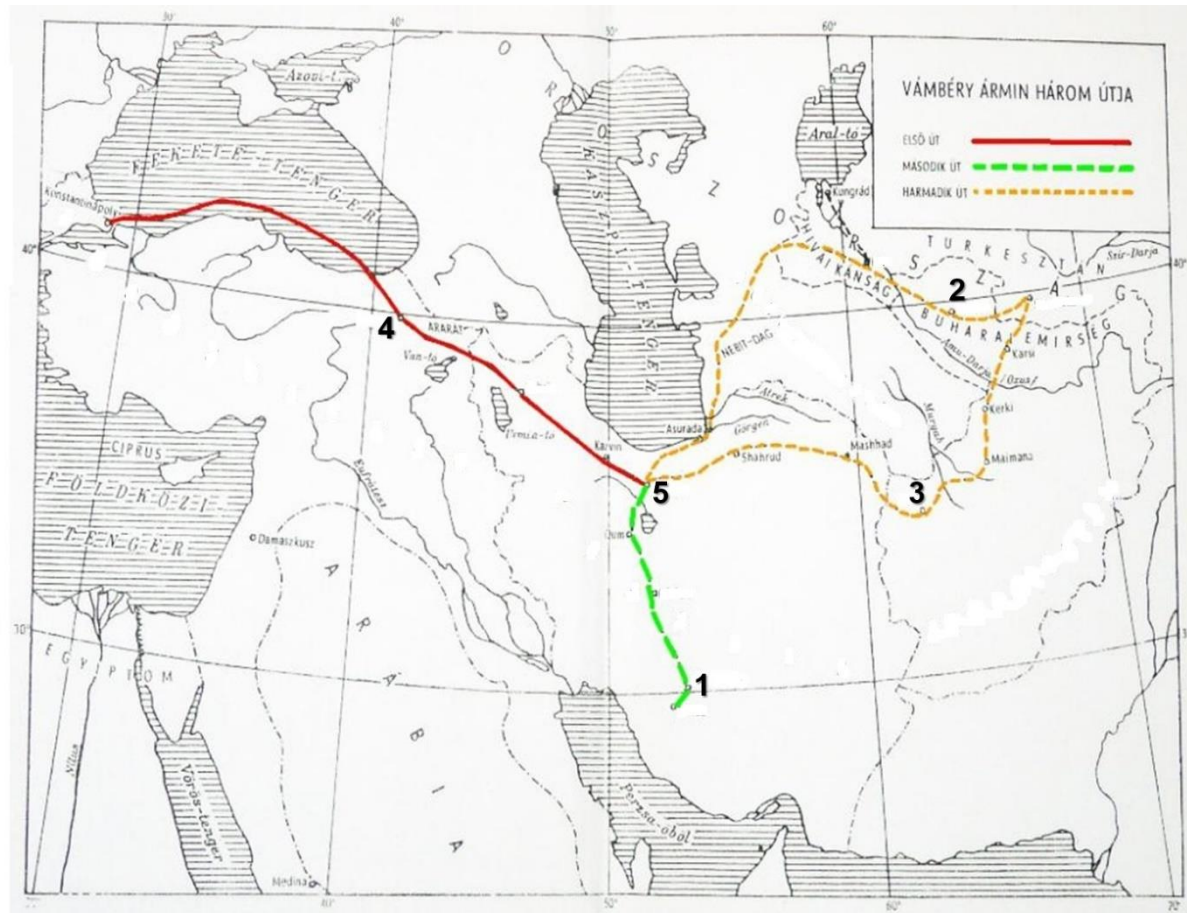
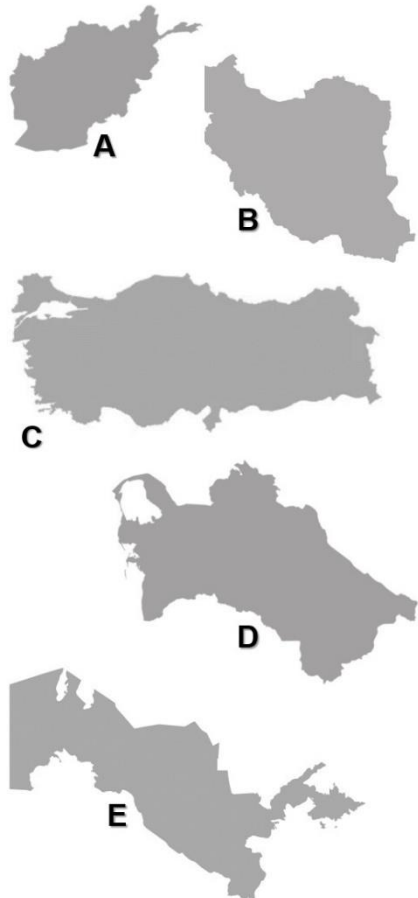
*Oldjátok meg figyelmesen a tesztfeladatokat a levelező fordulók témaköreiből!*

Minden jó megoldás egy pontot ér – összesen 30 pont

- 1) Honnan származik Vámbéry Ármin családja?  
a) Hamburg                      b) Bamberg                      c) Wamberg                      d) Szentgyörgy
- 2) Hány csillag látható Törökország zászlaján?  
a) egy                      b) kettő                      c) három                      d) egy sem
- 3) Melyik ország területét nem érintette Vámbéry ázsiai utazásai során?  
a) Irán                      b) Kazahsztán                      c) Törökország                      d) Üzbegisztán
- 4) Mi volt eredeti neve Vámbéry Árminnak?  
a) Vámbergi Hermann      b) Wamber Ernő                      c) Wamberger Hermann                      d) Wamber Hermann
- 5) Melyik Törökország legnépesebb települése?  
a) Ankara                      b) Izmir                      c) Isztambul                      d) Antalya
- 6) Mikor született Vámbéry Ármin?  
a) 1830. március 19.      b) 1832. március 19.      c) 1832. május 19.      d) 1831. március 19.
- 7) Hányadik legnagyobb ország a területe szerint Törökország a világon?  
a) 6                      b) 16                      c) 26                      d) 36
- 8) Mi volt Vámbéry Ármin második keleti utazásának végpontja?  
a) Persepolis                      b) Shiraz                      c) Teherán                      d) Isfahan
- 9) Kitől kapott magyar grófi rangot Benyovszky Móric?  
a) Ferenc József                      b) II. József                      c) Viktória királynő                      d) Mária Terézia
- 10) Mivel tartotta el a családot Vámbéry Ármin édesanyja Szentgyörgyön?  
a) kocsmároskodás                      b) takarítás                      c) piócakereskedés                      d) varrás
- 11) Milyen betegségben szenvedett Vámbéry Ármin hároméves korában, amitől bal lába lebénult?  
a) bárányhimlő                      b) tüdőgyulladás                      c) kolera                      d) csípőfájás
- 12) Hogy hívták Vámbéry Ármin mostohaapját?  
a) Fleischer                      b) Kaufmann                      c) Fleischmann                      d) Fischer
- 13) Ki bírálta kemény szavakkal Vámbéry munkásságát az ugor-török háborúban?  
a) Trúry József                      b) Török Aurél                      c) Marczali Henrik                      d) Budenz József
- 14) Hol kapott Vámbéry Ármin állást 11 éves korában?  
a) Dunaszerdahelyen      b) Nyéken                      c) Zsámbokréten                      d) Kutjevón
- 15) Hol végezte gimnáziumi tanulmányai első két évét?  
a) Szentgyörgyön                      b) Pozsonyban                      c) Dunaszerdahelyen                      d) Budapesten

- 16) Hogy nevezik ma Lundenburg nevű települést?  
a) Pressburg                      b) Břeclav                      c) Vrakúň                      d) Hainburg
- 17) Melyik városban érte Vámbéry Ármint az 1848-49-es forradalom?  
a) Bécs                      b) Budapest                      c) Dunaszerdahely                      d) Pozsony
- 18) Melyik családnál házitanítóskodott Vámbéry Ármin Zsámbokréten?  
a) Rosenberg                      b) Petrikovich                      c) Schweiger                      d) Grünfeld
- 19) Melyik tengerparti város kormányzására nevezték ki mindkét Zichy testvért?  
a) Fiume                      b) Bécs                      c) Pozsony                      d) Amszterdam
- 20) Mi volt Kittenberger Kálmány kedvenc vadászkutyájának neve?  
a) Burkus                      b) Nimród                      c) Tábortűz                      d) Szikra
- 21) Melyik településen kezdett Vámbéry Ármin törökül tanulni?  
a) Kecskemét                      b) Kutyevó                      c) Zsámbokrét                      d) Konstantinápoly
- 22) Melyik kávéházban ismerkedett meg Vörösmarty Mihállyal?  
a) Szegedi                      b) Orczy                      c) Café Flamm                      d) Pilvax
- 23) Kinek a segítségével jutott útlevélhez Vámbéry Ármin első keleti utazásához?  
a) Garay János                      b) Ballagi Mór                      c) Hunfalvy Pál                      d) Eötvös József
- 24) Milyen nyelven publikálta művét Besse János Károly?  
a) francia                      b) angol                      c) magyar                      d) német
- 25) Milyen néven volt ismert Vámbéry Ármin keleten, amit első ottani munkaadójától kapott?  
a) Hadzsi Arminius                      b) Resid hadzsi                      c) Resid efendi                      d) Wamberger Ármin
- 26) Első keleti utazása során melyik intézmény választja levelező tagjává Vámbéry Ármint?  
a) Magyar Földrajzi Társaság                      b) Magyar Tudományos Akadémia  
c) Royal Geography Society                      d) Budapesti Királyi Magyar Tudomány-Egyetem
- 27) Hol véste köbe Vámbéry Ármin saját nevét és az „Éljen a magyar” szöveget?  
a) Teherán                      b) Isfahán                      c) Shiraz                      d) Persepolis
- 28) Kit neveznek efendinek keleten?  
a) az írástudókat                      b) a szenteket                      c) akik megjárták a mekkai zarándoklatot                      d) papokat
- 29) Mikor érkezett haza keleti utazásairól Vámbéry Ármin?  
a) 1864. május 29.                      b) 1864. december 6.                      c) 1861. július 7.                      d) 1861. december 15.
- 30) Hol adta ki Vámbéry Ármin első ízben a Közép-ázsia utazások című könyvét?  
a) Budapest                      b) Bécs                      c) Párizs                      d) London

Vámbéry Ármin utazásainak térképe – nevezétek meg a megszámozott állomásokat (településeket), valamint írjátok a betűkkel megjelölt ábrák betűjéhez Vámbéry Ármin útvonala által érintett országok neveit és azok fővárosait! (5 település neve + 5 ország neve + 5 főváros neve = 15 pont)



- 1 Perszepolisz
- 2 Bokhara/Buhara/Boxoro
- 3 Herat
- 4 Erzerum
- 5 Teherán

A – ország: Afganisztán + főváros: Kabul

B – ország: Irán + főváros: Teherán

C – ország: Törökország + főváros: Ankara

D – ország: Türkmenisztán + főváros: Asgabat

E – ország: Üzbegisztán + főváros: Taskent

## Kakukktojás

*Keressétek meg a hármasok között megbúvó kakukktojást és indokoljátok egy-egy rövid mondattal, miért lóg ki a sorból!*

**Minden jó megoldás és minden jó indoklás egy pontot ér – összesen 20 pont**

1. Boszporusz    Dardanellák    Torosz

**Torosz, mert hegység és nem szoros**

2. Kaszpi-tenger    Fekete-Tenger    Égei-tenger

**Kaszpi-tenger, mert nem tenger, nem határos Törökországgal**

3. Kittenberger Kálmán                                  Benyovszky Móric    Besse János Károly

**Besse János Károly, mert nem volt köze Afrikához**

4. Sedita    Slovenský plynáreňský priemysel    Volkswagen

**Sedita, mert nem Pozsonyhoz köthető ipari vállalat**

5. Dunaszerdahely    Zsámbokrét    Pozsony

**Zsámbokrét, mert ez nem Vámbéry tanulmányainak színhelye**

6. V. Ferdinánd    Ferenc József    Viktória

**Viktória, mert nem magyar (osztrák-magyar) uralkodó**

7. Központi Kávéház    Orczy-kávéház    Pilvax Kávéház

**Központi Kávéház, mert itt nem járt Vámbéry Ármin (Esztergomban található)**

8. Magyar Tudományos Akadémia                                  Royal Geographical Society    Magyar Történelmi Társulat

**Magyar Történelmi Társulat, mert Vámbéry nem volt tagja**

9. Husszein Daim pasa    Ali pasa    Fuad pasa

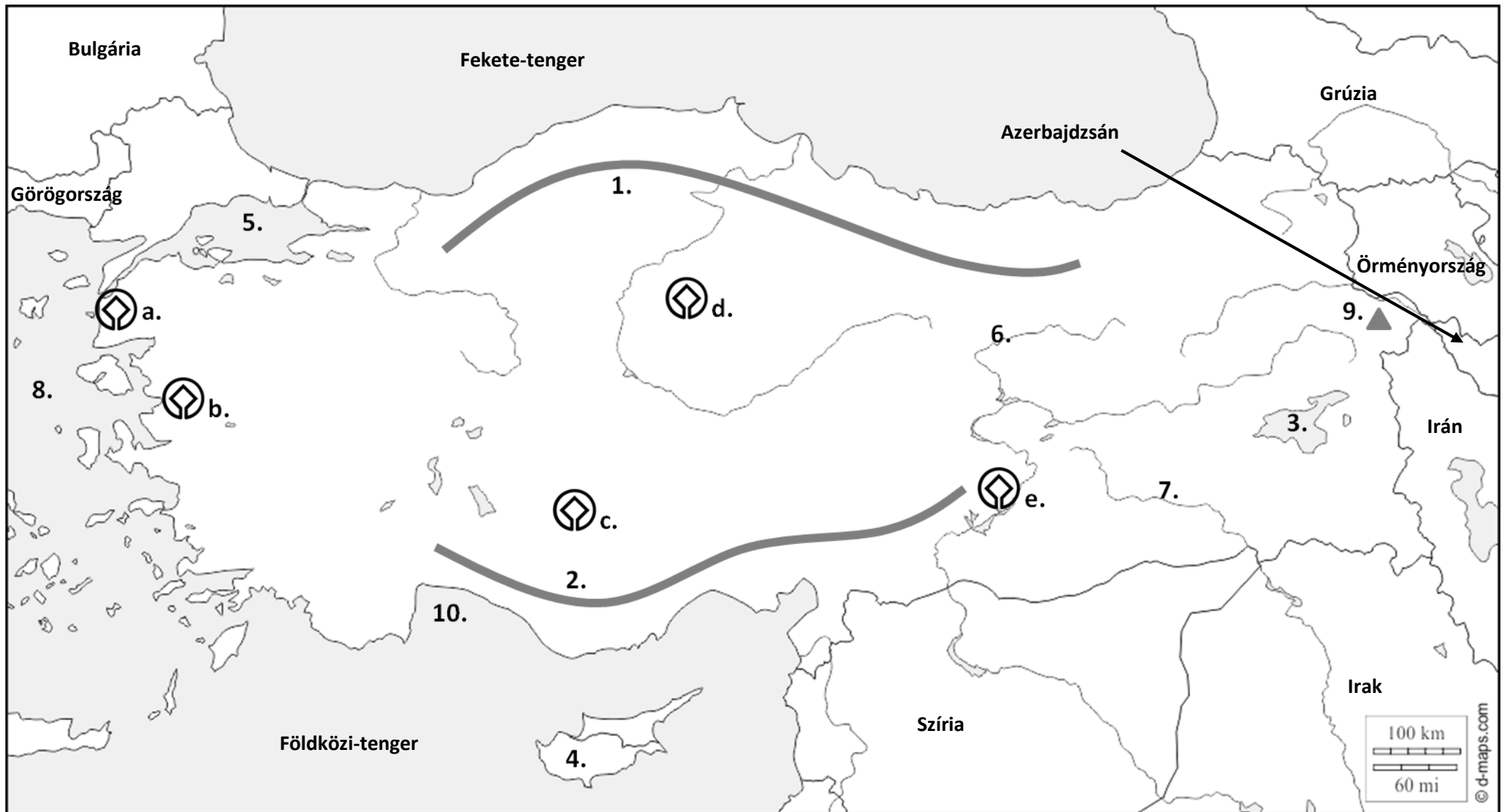
**Ali pasa, mert Vámbéry nem állt vele semmilyen kapcsolatban (nem állt a szolgálatában)**

10. Keleti életképek    Bokhara története    Resid efendi

**Resid efendi, mert ezt a könyvet nem Vámbéry írta (Vámos Magda műve)**



Törökország térképe – nevezétek meg a bejelölt földrajzi képződményeket, valamint írjátok be a térképre Törökország határait (azt is, ami nincs megjelölve). Nevezétek meg az UNESCO Világörökségi helyszíneit is (segítségül, a könnyebb meghatározás miatt pár képet mellékeltem)!



*Minden jó beírás a térképbe egy pontot ér (10 pont), minden jó megfejtés a válaszadó lapon egy pontot ér (10+5=15 pont) – összesen 25 pont*

1 – Észak-Anatóliai-hegység (Pontusz-hegység)

2 – Torosz-hegység

3 – Van-tó

4 – Ciprus

5 – Márvány-tenger

6 – Eufrátesz

7 – Tigris

8 – Égei-tenger

9 – Ararát

10 – Antalyai-öböl

a.



Trója

b.



Pergamon

c.



Catalhöyük / Catal Hüyük

d.



Hattusasz

e.



Nemrut-hegy

## Levél

**A következő képzeletbeli levelet Vámbéry Ármin a jövő nemzedékének címezte, melyben tíz művének címét rejtette el. Olvassátok el figyelmesen a levelet, majd a megfelelő mezőbe írjátok le Vámbéry Ármin tíz művének teljes címét! /10 pont**

Kedves Olvasóm!

Ha elmesélem élményeim, nem tűnnek majd olyannak, mint amilyenek az emberek által elképzelt tündérmesék. Mi több, néha veszélyesek és sanyarúak is voltak. Legnagyobb küzdelseim közé tartoztak életem legmeghatározóbb cselekedetei, vándorlásaim a keleti világ országain keresztül. A közép-ázsiai térség nem a legbiztonságosabb területe volt világunknak a XIX. században, azonban a dervisruhában való utazás még Perzsiában is megfelelő oltalmat biztosított. Mindez azonban semmit sem ért volna, ha nem vagyok teljes ismeretben az iszlám vallásnak. Mivel a hatalmi helyzet Ázsiában meglehetősen bizonytalan volt, gyakran gyanúsítottak kémkedéssel, de nyelvismeretem minden kétséget eloszlatott személyem európai léte felől. Oroszország terjeszkedése ekkorra már szinte az indiai határig elért. Nem is csoda, hogy mindenki, aki kicsit is más volt, gyanús személynek tűnt.

A Közép-Ázsián át való utazás remek lehetőséget adott a mindennapi életképek megörökítésére és megértésére, azonban fő célom nemzetem eredete után való kutatás volt. Szerettem volna bizonyítani, hogy a magyar a török nyelv rokona, de be kell ismernem, ez a feltételezésem téves volt. Ugyanakkor a török nyelv nagy hatással volt a történelem évszázadai alatt a magyarra.

Életem egyik legfontosabb állása a Brit birodalomnak végzett ügynöki munka volt, amely a magyarság méltó megítélését is helyreállította a világban. Lehetőséget kaptam a világ legrangosabb fórumain előadást tartani, bár kicsit idegennek tűnt számomra a helyzet. Igazán büszke vagyok a munkatársaimmal közösen elvégzett munkára, ami által a Magyar Földrajzi Társaság születésénél is épp úgy ott lehettem, mint fiam bölcsőjénél. Hazám szolgálata annak ellenére is fontos volt számomra, hogy a magyarok késve ismerték fel munkásságom jelentőségét. Ma már, megkésve ugyan, de annál méltóbban emlékeznek tetteimre.

Kedves Olvasóm, levelem lassan végzem, de innen a múltból arra kérek, légy büszke nemzetedre, annak és saját eredményeidre, szemed előtt az a cél lebegjen, hogy jó híred növelj és öregbítsd!

V. Á.

### Vámbéry Ármin műveinek teljes címei:

1. Vándorlásaim és élményeim Perzsiában \_\_\_\_\_
2. Indiai tündérmesék \_\_\_\_\_
3. Küzdelseim \_\_\_\_\_
4. Keleti életképek \_\_\_\_\_
5. Közép-ázsiai utazás \_\_\_\_\_
6. Dervisruhában Közép-Ázsián át \_\_\_\_\_
7. Az iszlám a XIX. században \_\_\_\_\_
8. Oroszország hatalmi állása Ázsiában \_\_\_\_\_
9. A magyarok eredete \_\_\_\_\_
10. A magyarság bölcsőjénél \_\_\_\_\_

## Töredékek

A képrészleteken 10 szlovákiai települést, melyek közül öthöz tartozik egy márkanév, a maradék öthöz pedig egy jellemzés. Párosítsátok ezeket, majd nevezzétek meg a településeket / látványosságokat!

(10 település + 5 márkanév + 5 márkanév + 10 megnevezés = 20 pont)



1



2



3



4



5



6



7



8



9



10



A



B



C



D



E

F – Szlovákia legnagyobb váregyüttese

G – A barbárok ellen védte a Birodalmat

H – Skanzen gerendaházakkal

I – Mélyében folyik a föld alatti Styx/Stüx folyó

J – Szlovákiai fürdőváros, főterén a gótikus városházával

1 – I \_\_\_\_\_ Aggteleki karszt barlangjai / Domica \_\_\_\_\_

2 – J \_\_\_\_\_ Bártfa \_\_\_\_\_

3 – E \_\_\_\_\_ Zólyom vára + Zvolenský márkanév \_\_\_\_\_

4 – F \_\_\_\_\_ Szepes vára + Lőcse és a kapcsolódó műemlékek \_\_\_\_\_

5 – C \_\_\_\_\_ Nyitra / Nyitra vára + Jaguar – Land Rover márkanévek \_\_\_\_\_

6 – B \_\_\_\_\_ Pozsony / Kék templom = Szent Erzsébet templom + Volkswagen márkanév \_\_\_\_\_

7 – G \_\_\_\_\_ Izsa = Kelemantia / Oroszvár = Gerulata + Római Limes vonala \_\_\_\_\_

8 – D \_\_\_\_\_ Dunaszerdahely / Vámbéry Ármin szobra + Kukukónia márkanév \_\_\_\_\_

9 – A \_\_\_\_\_ Ógyalla / csillagvizsgáló + Zlatý bažant márkanév \_\_\_\_\_

10 – H \_\_\_\_\_ Vlkolínec / Farkasd \_\_\_\_\_

## Keresztrejtvény – megoldókulcs

*Az alábbi meghatározások alapján oldjátok meg a keresztrejtvény három részét, majd írátok le, hogyan kapcsolódik az Vámbéry Árminhoz!*

Minden jó megfejtés egy pontot ér (24 pont) a végső megfejtés egy pontot ér – összesen 25 pont

Meghatározások:

1. Ebben a temetőben találjuk Vámbéry nyughelyét – Kerepesi
2. Ebben a városban adott elő Vámbéry elsőként nagy nyilvánosság előtt – London
3. Itt kedvelte meg Emília kisasszonyt – Kutyevó
4. Híváshoz közel elterülő nagy tó – Aral
5. Öböl Törökország délnyugati részén – Antalyai
6. Ma ebben az országban található a település, ahonnan dédapja vándorolt Pozsony közelébe - Németország
7. Tőle kap nyelvtanári kinevezést az Egyetemre – Ferenc József
8. Ismert török elektronikai márkanev – BEKO
9. Ő mutatta be Vörösmarty Mihálynak Vámbéryt – Garay
10. Teheránból dél felé vezető útján ilyen embernek öltözve álcázta magát Vámbéry Ármin – dervis
11. Kittenberger Kálmán 1920-ban költözött ide – Nagymaros
12. A Magyar Földrajzi Társaság egyik jeles alapítója – Hunfalvy Pál
13. Mai ország Németalföld egykori területén – Hollandia
14. Vámbéry családjának vallása – zsidó
15. Ezen dolgok árusításával keresete kenyerét családja Dunaszerdahelyen – pióca
16. Vámbéry útjának legkeletibb állomása – Szamarkand
17. Vámbéry Ármin feleségének keresztneve – Kornélia
18. Török buszmárka – TEMSA
19. Konstantinápolyból Perzsia felé Vámbéry ebben a városban száll partra a Fekete-tenger partvidékén – Trabzon
20. Illemtant / etikettet tanult tőle – Petrikovichné
21. Nagy-Britannia uralkodója, aki vendégül látta Vámbéry Ármint – Viktória
22. Benyovszky Móric születésének helye – Verbó
23. Első műve – szótár
24. Vámbéry Ármin születésének helye – Szentgyörgy

Royal Geographical Society – tiszteletbeli tagjául választotta egyedülálló teljesítményéért

1. K  
E L T R A  
R O Y A L  
E N E L Y  
P D V A  
E O O I  
S N  
I

3. K  
U A T  
Y A L  
E L Y  
A  
I

5. A  
N  
T  
L  
Y  
A  
I

6. N E  
É R  
M E  
E N  
T C  
O

7. F  
N E  
É R  
M E  
E N  
T C  
O

8. S Ó B  
Z Z E  
Á S K  
G E O

J  
S Ó B  
Z Z E  
Á S K  
G E O  
F

9. G R A P H I C A L  
A V R Á O D A N I  
R I O L L Ó  
A S S L  
Y

10. D Y Y  
E M  
A V R Á O D A N I  
R I O L L Ó  
A S S L  
Y

11. N A  
A L  
G V  
E M

12. H  
U  
N  
F  
A L  
G V  
E M

14. Z O R N  
S Ó K É  
P A R  
D A

15. P A R  
S Ó K É  
D A

16. S  
Z  
A K  
M O  
P A R  
D A

17. A K  
M O  
P A R  
D A

18. T A O T  
E B V Ó  
M Z I R V  
S O C I E T Y  
A N H A R Á Ö  
N B R R  
É Ó

19. T I I  
R K K  
S O C I E T Y  
A N H A R Á Ö  
N B R R  
É Ó

20. P  
E  
T  
R V  
S O C I E T Y  
A N H A R Á Ö  
N B R R  
É Ó

21. R V  
S O C I E T Y  
A N H A R Á Ö  
N B R R  
É Ó

22. V Ó  
S O C I E T Y  
A N H A R Á Ö  
N B R R  
É Ó

23. S N  
Z T  
Ó G  
S O C I E T Y  
A N H A R Á Ö  
N B R R  
É Ó

24. S  
Z  
E  
S N  
Z T  
Ó G  
S O C I E T Y  
A N H A R Á Ö  
N B R R  
É Ó