

KATEDRA ALSÓ TAGOZATOS VERSENY

ROVATVEZETŐ: HERDICS KALOCSÁNYI MÓNIKA, katedra.also.tagozat@gmail.com

A III. forduló megoldásai

I. FELADAT: MI VOLT ELŐBB?

1.	2.	3.	4.	5.	6.	7.	8.	9.	10.	11.	12.	13.	14.
F	É	L	R	E	S	Ü	L	T	S	E	R	E	G





MEGFEJTÉS: Félresült Sereg




KIK ŐK? A Rémsütik

HOL ÉLNEK? A Fondán-folyam vidékén

HOGYAN KELETKEZTEK? Irénke néni az ősanjuk. Túlsült, megégett vagy nyersen maradt, félredobott sütemények ők.

II. FELADAT: KIHEZ TARTOZIK?

	Melyik szereplőhöz tartozik? <i>Marcipánégér</i> Mi a jelentősége az adott szereplő életében? <i>jól jöhet az erdömélyi vadcsapáson</i>
	Melyik szereplőhöz tartozik? <i>Csárli Meggy</i> Mi a jelentősége az adott szereplő életében? <i>Ebben utazik Csücsök hátán</i>
	Melyik szereplőhöz tartozik? <i>Csücsök</i> Mi a jelentősége az adott szereplő életében? <i>A tökből kirágott hajóval kel útra a Fondán-folyamon.</i>
	Melyik szereplőhöz tartozik? <i>Marcipánégér</i> Mi a jelentősége az adott szereplő életében? <i>A lapulevélből akart evezőt rágni.</i>

	<p>Melyik szereplőhöz tartozik? <i>Irénke néni</i></p> <p>Mi a jelentősége az adott szereplő életében? <i>Így készítette a Rémsütiket</i></p>
	<p>Melyik szereplőhöz tartozik? <i>Csücsök</i></p> <p>Mi a jelentősége az adott szereplő életében? <i>Ezt ajándékozta a sárga papagájnak, így menekül meg a Rémsütik földjéről</i></p>
	<p>Melyik szereplőhöz tartozik? <i>Minyon</i></p> <p>Mi a jelentősége az adott szereplő életében? <i>Ebben hord vizet a főzelékekhez</i></p>

III. FELADAT: KÓDFEJTÉS

- 1) **ᚱᚱᚱᚱᚱ ᚩᚩᚩᚩᚩᚩᚩᚩᚩ** Történetünk főhőse – Csücsök
- 2) **ᚱᚱᚱᚱᚱ ᚩᚩᚩᚩᚩᚩᚩᚩᚩ** A Marcipánegér támadója – Bundáskenyér
- 3) **ᚱᚱᚱᚱᚱ ᚩᚩᚩᚩᚩᚩᚩᚩᚩ** A Rémsütik ősanyja – Irénke néni
- 4) **ᚱᚱᚱᚱᚱ ᚩᚩᚩᚩᚩᚩᚩᚩᚩ** A kővidékek Búzvitéze – Vérpuding
- 5) **ᚱᚱᚱ ᚩᚩᚩᚩᚩᚩᚩ** Goromba nép – Rémsütik
- 6) **ᚱᚱᚱᚱᚱ ᚩᚩᚩᚩᚩᚩᚩᚩᚩ** Égből érkező veszély – a sárga papagáj
- 7) **ᚱᚱᚱᚱᚱ ᚩᚩᚩᚩᚩᚩᚩᚩᚩ** A papagáj fizetsége – lenmag
- 8) **ᚱᚱᚱᚱᚱ ᚩᚩᚩᚩᚩᚩᚩᚩᚩ** A Vérpuding heppje – főzelék
- 9) **ᚱᚱᚱᚱᚱ „X” ᚩᚩᚩᚩᚩᚩᚩ** Csücsök „B” terve – húzzanak nyúlcipőt
- 10) **ᚱᚱᚱᚱᚱ ᚩᚩᚩ ᚱᚱᚱᚱ ᚩᚩᚩᚱᚱ ᚱᚱ ᚩᚩᚩᚩᚩᚩᚩ** Csücsök és Minyon első úti eszköze – Kajla Vájling

IV. FELADAT: Egérút

1. számítás: 1 perc alatt 10 méter
? perc alatt 1 kilométer 300 méter ... 1300 méter
 $1300 : 10 = 130$

Válasz: Hóseink 130 perc alatt tették meg az utat.

2. számítás: 85 perccel később
1 perc alatt 13 méter
100 perc alatt 1300 méter

Vérpuding ideje: $85+100=185$ perc

Hóseink ideje 130 perc

$185-130=55$

Válasz: Hóseink előnye 55 perc lehet.