
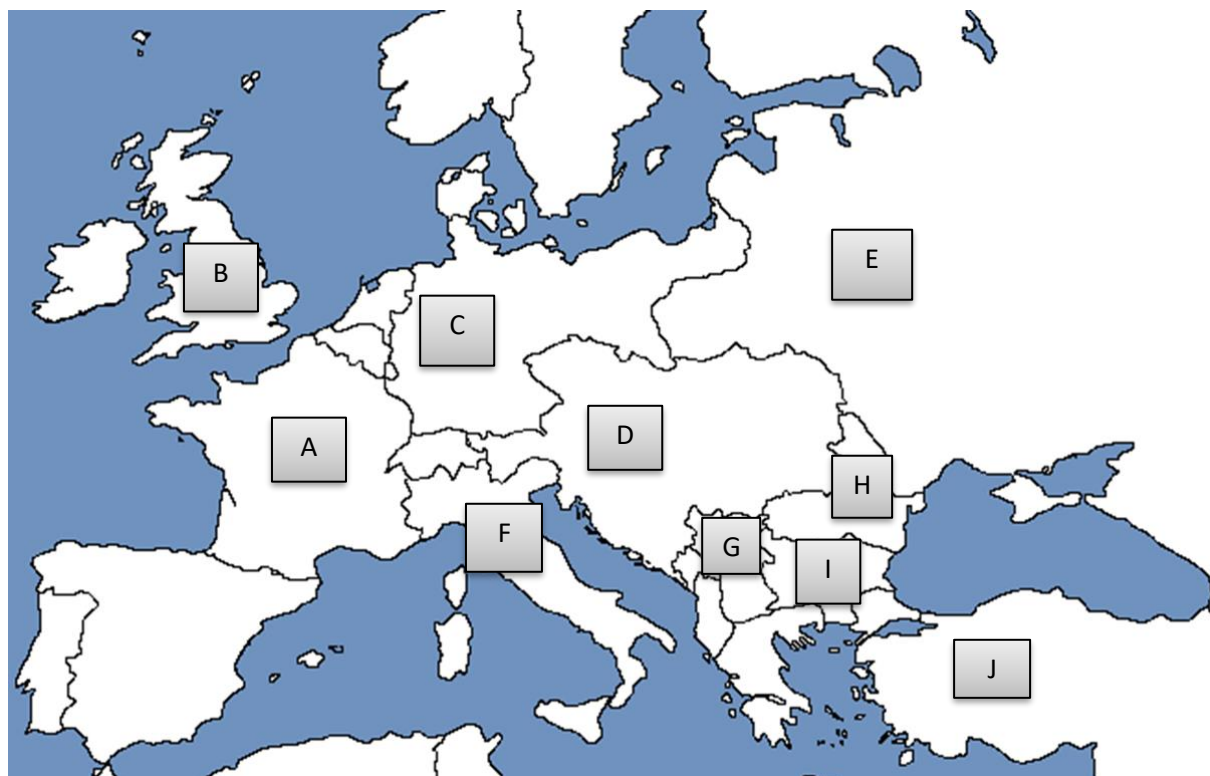


**FELADATOK**

## Európai hatalmak az első világháború idején



## Katedra döntő 2024 – 1. feadalat: RÉSZTVEVŐK

Az ország betűjele a térképen	Az államfő száma	Az ország neve	Az ország szereplése a háborúban	A katonai szövetség, amelyben részt vett
I	5	Bulgária	Célja volt, hogy a második balkáni háborúban elveszített területeit visszaszerezze és hogy valódi kikötővárost szerezzen az Égei-tenger partján	Központi Hatalmak
			Egy győztes háborúval akarta helyreállítani népének egységét, de a hosszú háborúra rosszul készült fel. A hadsereg eleinte sikereket ért el, majd súlyos emberi és területi veszteségeket szenvedett. Az ország belesodródott egy forradalomba.	
			Nem számított háborúra 1914-bent. A jelentősebb ipari körzetek elvesztése ellenére el tudta látni hadseregét. A híres "nyugati frontot" nagyrészt az ő területén vívták. A rendkívül nagy és heves csaták ellenére állóháborúról beszélhetünk itt.	
			Kezdetben látványos sikereket ért el, amikor nyugaton gyorsan nyomult előre, de 1918-ra kimerültek tartalékai. Ősszel a felkeléseknek köszönhetően lemondott az államfő és kikiáltották a köztársaságot.	
			Az állam rosszul megtervezett kaukázusi, egyiptomi hadjárata kudarcot vallott, a törökök legnagyobb sikerüket Gallipoli védelmének aratták. Az ellenfelek végül titokban az állam felosztásáról állapodtak meg.	
			Hadicélja az ország területi egységének megőrzése volt, amit az orosz pánszláv politika veszélyeztetett. A több fronton lekötött, nemzetiségi problémákkal terhelt állam az első világháború végére szétesett, helyén több utódállam jött létre.	

## TÖRTÉNELMI TOTÓ

1. Hány százalékkal csökkentek a bérek Magyarországon a háború alatt?

1 – 30-40%

2 – 40-60%

X – 50-70%

2. Melyik állam katonái tették ki a Központi Hatalmak embervesztésének 10%-át?

1 – Oszmán birodalom

2 – Bulgária

X – Németország

3. Kik szálltak szembe saját uralkodójukkal a brit birodalomban a világháború idején?

1 – az indiaiak

2 – a dél-afrikaiak

X – az írek

4. Melyik csata érdemelte ki a „vérszivattyú” elnevezést?

1 – a somme-i csata

2 – a verduni csata

X – a gallipoli csata

5. Hány csata zajlott le Isonzónál?

1 – 10

2 – 11

X – 12

6. Ki volt Magyarország miniszterelnöke a hadba lépéskor?

1 – Tisza István

2 – gr. Károlyi Mihály

X – Justh Gyula

7. Melyik állam szeretne volna megszerezni Bukovinát a Monarchiától?

1 – Szerbia

2 – Oroszország

X – Románia

8. Mi volt a *Viribus Unitis*?

1 – a brit himnusz neve    2 – egy csatahajó    X – a Népszövetség neve

9. Ki volt az Osztrák-Magyar Monarchia utolsó uralkodója?

1 – IV. Károly    2 – Ferenc József    X – Ferenc Ferdinánd

10. Melyik hadsereg szállta meg Magyarországot nagy részét 1919-ben?

1 – a csehszlovák    2 – a román    X – a szerb

11. Melyik hadviselő államban nem volt általános hadkötelezettség?

1 – Franciaország    2 – Németország    X – Egyesült Királyság

12. Kinek a szobra áll a budapesti Nemzeti Múzeum előtt?

1 – Bandholtz tábornoké    2 – Wilson elnöké    X – Lord Kitcheneré

13. Hol sikerült a német- és monarchiabeli katonáknak áttörni az olasz védővonalakat?

1 – Padovánál    2 – Caporettonál    X – Vittorio Venetónál

a csapat száma: .....



*Mivel vádolták a cikkben is említett Mata Harit?*

*Kik hajtották végre a halálos ítéletet?*

*A mai ismereteink szerint bűnös volt-e Mata Hari?*



*Ki a képen látható személy?*

*Melyik évben zajlott le a képen látható koronázás?*

*Hogy kapcsolódik nevéhez a Sixtus-levél?*

HEIR TO AUSTRIAN THRONE ASSASSINATED;  
WIFE BY HIS SIDE ALSO SHOT TO DEATH;  
EARLIER ATTEMPT ON THEIR LIVES FAILED

HEIR TO THE AUSTRIAN THRONE AND HIS WIFE, VICTIMS OF ASSASSIN.



Francis Ferdinand, Nephew of Emperor Francis Joseph, Killed in Bosnian Capital an Hour After Warding Off Bomb Which Injures Score.

SLAYER A SERBIAN SOCIALIST

Volley from Revolver Hits Archduke and Duchess of Hohenburg as They Are Driving Together in Automobile in Town of Sarajevo—New Heir, Charles Joseph, 27 Years Old.

[By Cable to The Tribune.] Sarajevo, Bosnia, June 28.—The Archduke Francis Ferdinand, heir to the dual monarchy of Austria-Hungary, and his morganatic wife, the Duchess of Hohenberg, were shot to death today in the main street of this, the Bosnian capital. Bullets from a magazine revolver in the hands of an eighteen-year-old youth killed the heir apparent and his wife, and thus completed the grim task a madman had unsuccessfully attempted only a few hours before by hurling a bomb at the royal automobile.

Another terrible chapter has thus been written into the tragic

Milyen fontos tisztséget töltött be a képen látható férfi?


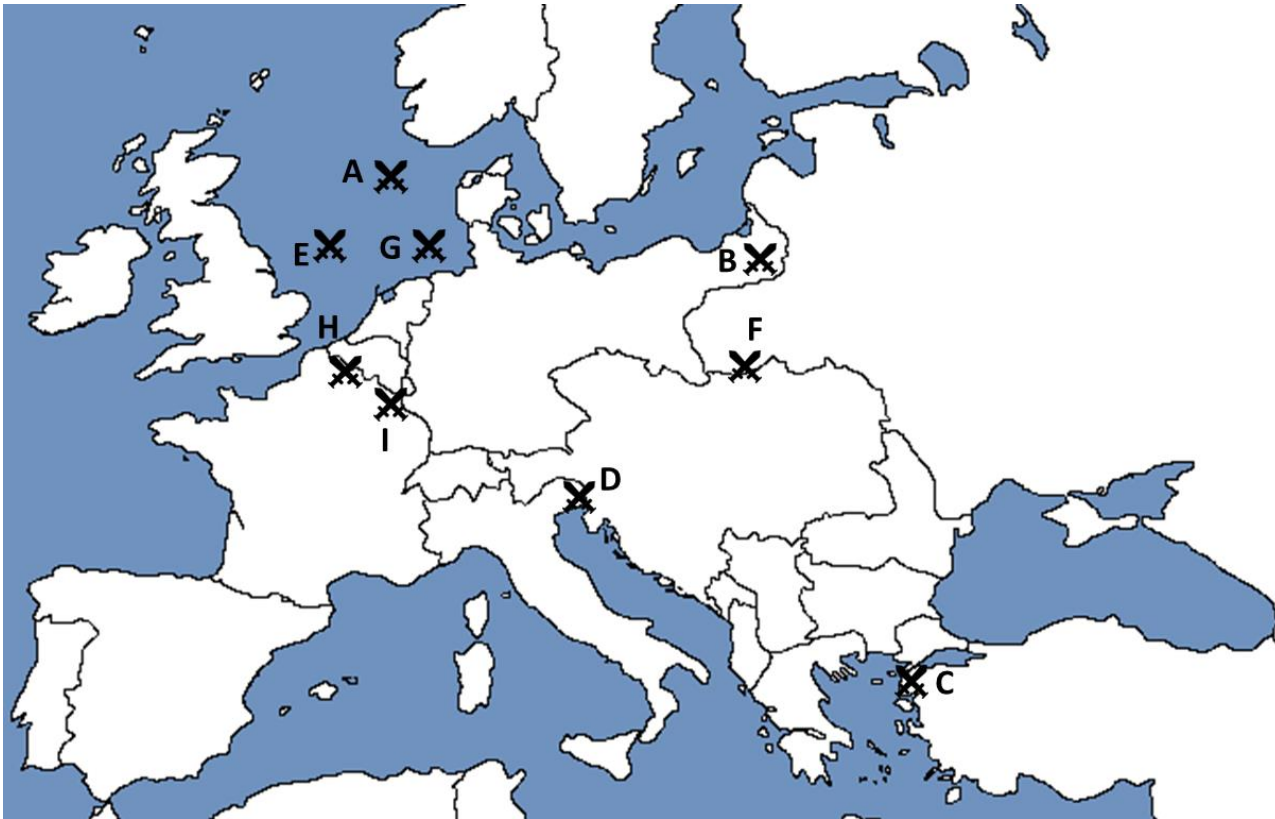






Mikor (év) és hol (város) történt az a tragikus esemény, amire a cikk utal?



Milyen esemény játszódott le a compiégne-i erdőben?

Mikor történt az esemény (év, hónap)?

Ki a képen látható katonai vezető?





A csapat száma: .....

„Ez volt a háború legnagyobb tengeri csatája, az egyetlen nagyszabású ilyen jellegű ütközet a konfliktus során. Ez számít továbbá a hadtörténet legnagyobb tengeri csatájának, melyet csatahajók vívtak meg. A Norvégia irányába előretörő Nyílttengeri Flottának a tervről előzetesen értesülő **David Beatty** csapdát állított, de a kibontakozó harc során mindkét fél olyan veszteségeket szenvedett, hogy a továbbiakban már kerülték az összecsapást, és ezért több csatára már nem került sor a szemben álló flották főereje között a háború során.“

A csata neve / helye:	A csata éve:	A csata betűjele a térképen:
Melyik hatalom szolgálatában állt a szövegben szereplő David Beatty:		David Beatty betűjele:
Melyik hatalomhoz tartozott a szövegben szereplő Nyílttengeri Flotta:		A csatához tartozó kép az X? IGEN - NEM

„A huszárokra úgyis nagy szükség volt, a hadvezetőség hirtelen csinálta a védővonalat, amelyet tartani kellett mindhalálig, amíg Artz tábornok meg nem érkezik. Szurmay tábornok egyenesen a budai íróasztal mellől rohanást jött seregével Magyarország felől, már minden megvolt szervezve, már szorult a gyűrű az orosz körül. A vezérkari ceruzának egy milliméternyi út a térképen, de a háromszáz huszárnak mindene: fiatal élete, teste, vére, anyja, babája, lóva, faluja, napja, éjszakája, minden pillanatban feléje süvöltő golyó-halála.“

A csata neve / helye:	A csata éve:	A csata betűjele a térképen:
Ki volt a német tábornok, akit lenyűgözött a huszárok vitézsége:		A német tábornok betűjele:
Ki volt a magyar író, aki tudósítóként írt a csatáról:		A csatához tartozó kép az X? IGEN - NEM

Angol veszteségek: 8.30-kor	kb. 60.000 embert vetettek be	kb. 30.000 sebesült vagy halott
12.00-kor	kb. 100.000 embert vetettek be	kb. 50.000 sebesült vagy halott
a nap végén	kb. 120.000 embert vetettek be	kb. 19.000 halott, 35.500 sebesült, 2.200 eltűnt, 585 fogságba esett
<i>Német veszteségek az első napon: kb. 6.000 halott illetve sebesült, 2.200 fogságba esett</i>		
A csata neve / helye:	A csata éve:	A csata betűjele a térképen:
Mit készítettek a britek a csatáról:		A brit tábornok betűjele:
Nevezd meg egy német katonát, aki ebben a csatában megsebesült:		A csatához tartozó kép az X?  IGEN - NEM

„Az ún. ANZAC-bozótban ausztrál és új-zélandi katonák szálltak partra. A területet kisszámú alakulat védte, a partraszállást nem tudták megakadályozni. Az öblöt körbefogó csúcsok többször is gazdát cseréltek, míg végül a török védelem megszilárdult. A partról azonban itt sem sikerült kiszorítani az antant csapatait. Ugyanolyan állóháború alakult ki, mint a nyugati fronton. A támadókat jól álcázott géppuskafészek fogadták, aknamezőket telepítettek és szögesdrótokat húztak ki, ezért a támadók a nagy veszteségek miatt védelembe rendelték csapataikat.“		
A csata neve / helye:	A csata éve:	A csata betűjele a térképen:
Hogy hívták a török védelmet megszervező tisztet :		A török tiszt betűjele:
Később milyen fontos tisztséget tölt be ez a tiszt:		A csatához tartozó kép az X?  IGEN - NEM