

A KATEDRA-VERSENYEK  
FŐ SZERVEZŐJE

Katedra Polgári Társulás

# KATEDRA-VERSENY

A Katedra-versenyek az oktatási minisztérium által akkreditált és támogatott versenyek.  
További, a versennyel kapcsolatos információk: [www.katedra.sk](http://www.katedra.sk), [katedrapolgaritarsulas@gmail.com](mailto:katedrapolgaritarsulas@gmail.com)

## KATEDRA VÁMBÉRY ÁRMIN FÖLDRAJZVERSENY

ROVATVEZETŐ: TÓTH TIBOR, 945 01 Komárno, Rákócziho 36/34, [vambery.armin.foldrajzverseny@gmail.com](mailto:vambery.armin.foldrajzverseny@gmail.com)

IV. forduló

Beküldési határidő: 2025. február 21.

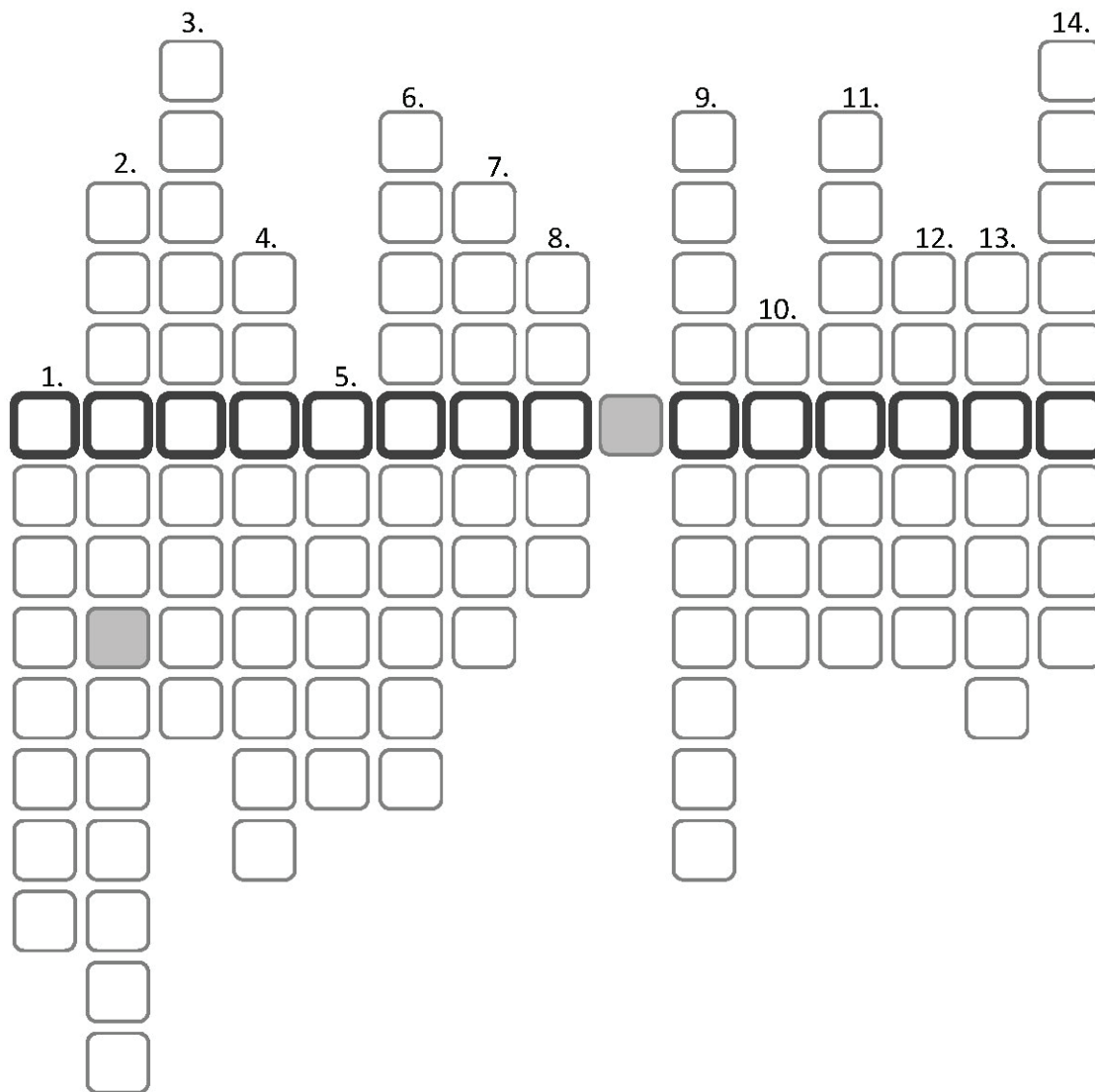
A csapat neve:	A csapattagok neve:	A forduló száma: <b>IV.</b>
A felkészítő pedagógus neve, e-mail-címe, telefonszáma:	Az iskola neve, címe, e-mail-címe, telefonszáma:	Regisztrációs kód:

A 4. fordulóban Vámbéry Ármin életével, munkásságával és utazásaival kapcsolatos feladatok sikeres megoldásához a *Küzdelmeim* című művét ajánlom irodalomként. A keleti világ bazárjaival kapcsolatos feladat megoldásában a *Keleti életképek „Bazárok és bazárélet”* fejezete lesz segítségetekre. A Csallóközhöz és Afganisztánhoz kapcsolódó feladatok megoldásához földrajzi atlasz és az internet különféle forrásai ajánlottak. A Katedra Vámbéry Ármin Földrajzverseny „segédanyagok” menüje szintén hasznos forrásanyagokat, valamint képes mellékleteket kínál a feladatok megoldásához.

### 1) Keresztül-kasul

Töltsétek ki a keresztrejtvényt Vámbéry Ármin életére vonatkozóan, az alábbi meghatározások alapján! Magyarázatok meg, hogyan kapcsolódik Vámbéry Árminhoz a keresztrejtvény megfejtése! (16 pont)

1. Felesége keresztnéve
2. Nyelvtanári kinevezést kapott tőle
3. Utazásainak legkeletibb állomása
4. Szentgyörgyi tanulmányai idején egyik pártfogó diáktársának vezetékneve, aki később Magyarország kereskedelmi minisztere lett.
5. Itt találkozott és ismerkedett meg Vörösmarty Mihállyal
6. Édesanyja származási helye, itt töltötte nyári szünidejét
7. Itt törte össze mankóját apja sírja mellett
8. Családjának vallása
9. Születésének helye
10. A derék, becsületes ember megnevezése Keleten
11. Konstantinápolyt gyakran nevezi így műveiben
12. Az írástudó ember megnevezése Keleten
13. Itt tanított szlavóniai tartózkodása idején, megismerte Emília kisasszonyt
14. Itt vendégeskedett gyakran Arany Jánosnál



Megfejtés: .....

Magyarázat: .....

.....  
.....  
.....

2) Jöttem, láttam... vagy nem?

Állapítsátok meg, hogy mi látható a képeken, hol található ezek a helyek (ország és város), majd térjete ki rá, hogy Vámbéry Ármin az utazásai során látta-e őket! (20 pont)



a) Mi látható a képen? .....

.....

.....

Hol található? (ország, város) .....

Látta-e Vámbéry az utazásai során? .....

b) Mi látható a képen? .....

.....

.....

Hol található? (ország, város) .....

Látta-e Vámbéry az utazásai során? .....

c) Mi látható a képen? .....  
.....  
.....

Hol található? (ország, város) .....

Látta-e Vámbéry az utazásai során? .....

d) Mi látható a képen? .....  
.....  
.....

Hol található? (ország, város) .....

Látta-e Vámbéry az utazásai során? .....

e) Mi látható a képen? .....  
.....  
.....

Hol található? (ország, város) .....


Látta-e Vámbéry az utazásai során? .....

### 3) Ismételd meg!

Az alább látható 6 darab Vámbéry Ármint ábrázoló kép közül válasszatok egyet, amely alapján röviden jellemzitek Vámbéry Ármin munkásságának egy szakaszát! A jellemzés mellé készítsetek egy leírást a képről, melyet egy mesterséges intelligenciával működő képszerkesztő segítségével reprodukáltok. Beküldendő lesz az eredeti kép alapján elkészített Vámbéry-jellemzés és a reprodukált kép azzal a leírással, amely alapján készült. (5+5+1=11 pont)

*Az eredeti képeket nagyobb felbontásban megtaláljátok a segédanyagok fül alatt (Vámbéry\_portré\_1-6 néven).*






#### 4) Bazári zűrzavar

Nézzétek meg alaposan az alábbi, keleti bazárokat ábrázoló képeket, majd a *Keleti életképek* „Bazárelet“ című fejezete alapján jellemezzétek az egyes képeket, legfeljebb 4-5 mondatban képenként! (15 pont)

A képeket nagyobb felbontásban megtaláljátok a segédanyagok fül alatt (Bazár\_1-3 néven).



### 5) Jellemző!

A következő képek Afganisztán kultúrájára jellemzőek. Határozzátok meg, mi látható rajtuk, miért jelentősek vagy hogyan kapcsolódnak Afganisztánhoz! (16 pont)



1) Mit ábrázol? .....

Miért jelentős, hogyan kapcsolódnak Afganisztánhoz? .....

.....

2) Mit ábrázol? .....

Miért jelentős, hogyan kapcsolódnak Afganisztánhoz? .....

.....

3) Mit ábrázol? .....

Miért jelentős, hogyan kapcsolódnak Afganisztánhoz? .....

.....

4) Mit ábrázol? .....

Miért jelentős, hogyan kapcsolódnak Afganisztánhoz? .....

.....

5) Mit ábrázol? .....

Miért jelentős, hogyan kapcsolódnak Afganisztánhoz? .....

.....

6) Mit ábrázol? .....

Miért jelentős, hogyan kapcsolódnak Afganisztánhoz? .....

.....

7) Mit ábrázol? .....

Miért jelentős, hogyan kapcsolódnak Afganisztánhoz? .....

.....

8) Mit ábrázol? .....

Miért jelentős, hogyan kapcsolódnak Afganisztánhoz? .....

.....

## 6) Kincstár

Az alábbi két cikk a Csallóköz területén megbúvó szlovákiai kincsről és annak védelméről szól. Olvassátok el ezeket, majd válaszoljátok meg a kérdéseket! (20 pont)

1. cikk: <https://www.minzp.sk/hu/sajtokapcsolat/sajtokozlemenyek/a-lex-csallokoz-hatekonyabb-vizvedelmet-biztosit.html>

2. cikk: <https://parameter.sk/484623/bemutattak-a-lex-csallokozt-az-első-vizvedelmi-torvenyt/>

1. Mi a Csallóköz területén található legjelentősebb szlovákiai kincs?

.....

2. Mi a neve annak a törvénynek, mely ezt a természeti kincset védelmezni hivatott?

.....

3. Melyik három minisztérium együttműködésével készült a törvényjavaslat?

.....

4. Mit tiltana és mit szorgalmazna a törvény a Csallóköz területén, hogy ennek a természeti kincsnek a védelme megfelelő legyen?

.....



.....  
.....

5. Nevezzék meg Szlovákia védett vízgazdálkodási területeit!

.....  
.....  
.....