

Az alábbi hat kép 3 muravidéki látnivalót és 3 üzbejsztáni UNESCO Világörökségi helyszínt ábrázol – töredékekben. Állapítsátok meg, mi látható az egyes képeken, majd egy rövid mondattal jellemezzétek is mindegyiket!

(A legtöbb részletet felfedő képek 1 pontot, a két részletet felfedők 2 pontot, míg az egy részletet felfedő képek 3 pontot érnek. Minden egymondatos magyarázat egy-egy pontot ér.  $2 \times 3 + 2 \times 2 + 2 \times 1 + 6 \times 1 = 18$  pont)

1. \_\_\_\_\_

jellemezés: \_\_\_\_\_




2. \_\_\_\_\_

jellemezés: \_\_\_\_\_




3. \_\_\_\_\_

jellemezés: \_\_\_\_\_




4. \_\_\_\_\_

jellemezés: \_\_\_\_\_



5. \_\_\_\_\_

jellemezés: \_\_\_\_\_



6. \_\_\_\_\_

jellemezés: \_\_\_\_\_

